

ΑΡΧΗ 1ΗΣ ΣΕΛΙΔΑΣ
ΝΕΟ ΣΥΣΤΗΜΑ Γ΄ ΗΜΕΡΗΣΙΩΝ

**ΠΑΝΕΛΛΑΔΙΚΕΣ ΕΞΕΤΑΣΕΙΣ
ΗΜΕΡΗΣΙΩΝ ΕΠΑΓΓΕΛΜΑΤΙΚΩΝ ΛΥΚΕΙΩΝ
ΠΕΜΠΤΗ 19 ΜΑΪΟΥ 2016
ΕΞΕΤΑΖΟΜΕΝΟ ΜΑΘΗΜΑ: ΜΑΘΗΜΑΤΙΚΑ (ΑΛΓΕΒΡΑ)**

ΣΥΝΟΛΟ ΣΕΛΙΔΩΝ: ΤΕΣΣΕΡΙΣ (4)

ΘΕΜΑ Α

A1. Να αποδείξετε ότι η παράγωγος της ταυτοτικής συνάρτησης $f(x)=x$ είναι $f'(x)=(x)'=1$ για κάθε x στο σύνολο \mathbb{R} των πραγματικών αριθμών.

Μονάδες 10

A2. Να δώσετε τον ορισμό της διαμέσου (δ) ενός δείγματος n παρατηρήσεων, όταν το n είναι περιττός αριθμός.

Μονάδες 5

A3. Να χαρακτηρίσετε τις προτάσεις που ακολουθούν, γράφοντας στο τετράδιό σας, δίπλα στο γράμμα που αντιστοιχεί σε κάθε πρόταση, τη λέξη **Σωστό**, αν η πρόταση είναι σωστή ή τη λέξη **Λάθος**, αν η πρόταση είναι λανθασμένη.

α) $(\eta\mu x)' = \sigma\upsilon\nu x$

(Μον. 2)

β) $(\sqrt{3})' = \frac{1}{2\sqrt{3}}$

(Μον. 2)

γ) Σε μία κανονική ή περίπου κανονική κατανομή στο διάστημα $(\bar{x}-s, \bar{x}+s)$ βρίσκεται το 68% περίπου των παρατηρήσεων.

(Μον. 2)

δ) Αν $\lim_{x \rightarrow x_0} f(x) = \ell_1$ και $\lim_{x \rightarrow x_0} g(x) = \ell_2$ όπου ℓ_1, ℓ_2

πραγματικοί αριθμοί τότε:

$$\lim_{x \rightarrow x_0} (f(x) g(x)) = \ell_1 \ell_2 .$$

(Μον. 2)

ΤΕΛΟΣ 1ΗΣ ΑΠΟ 4 ΣΕΛΙΔΕΣ

ΑΡΧΗ 2ΗΣ ΣΕΛΙΔΑΣ
ΝΕΟ ΣΥΣΤΗΜΑ Γ΄ ΗΜΕΡΗΣΙΩΝ

- ε) Μια συνάρτηση f λέγεται γνησίως αύξουσα σε ένα διάστημα Δ του πεδίου ορισμού της, όταν για οποιαδήποτε σημεία $x_1, x_2 \in \Delta$ με $x_1 < x_2$ ισχύει $f(x_1) < f(x_2)$.

(Μον. 2)

Μονάδες 10**ΘΕΜΑ Β**

Στον παρακάτω πίνακα δίνεται ο αριθμός των πιστωτικών καρτών που έχουν 20 υπάλληλοι μιας επιχείρησης.

Αριθμός πιστωτικών καρτών x_i	Αριθμός υπαλλήλων v_i	Αθροιστική Συχνότητα N_i	Σχετική Συχνότητα $f_i\%$	$x_i v_i$
0	5			
1		9		
2			10	
3				
4				
ΣΥΝΟΛΑ				

- B1.** Αν γνωρίζετε ότι η 5^η συχνότητα (v_5) ισούται με την 1^η συχνότητα (v_1), να μεταφέρετε στο τετράδιό σας τον παραπάνω πίνακα και να τον συμπληρώσετε.

Μονάδες 10

- B2.** Να υπολογίσετε τη μέση τιμή \bar{x} των πιστωτικών καρτών των υπαλλήλων.

Μονάδες 5

- B3.** Να υπολογίσετε τον αριθμό των υπαλλήλων που έχουν το πολύ 3 πιστωτικές κάρτες.

Μονάδες 5

- B4.** Να υπολογίσετε το ποσοστό των υπαλλήλων που έχουν τουλάχιστον 2 πιστωτικές κάρτες.

Μονάδες 5

ΑΡΧΗ 3ΗΣ ΣΕΛΙΔΑΣ
ΝΕΟ ΣΥΣΤΗΜΑ Γ΄ ΗΜΕΡΗΣΙΩΝ

ΘΕΜΑ Γ

Δίνεται η συνάρτηση $f: \mathbb{R} \rightarrow \mathbb{R}$ με τύπο:

$$f(x) = \frac{x}{x^2 + 1} + \frac{1}{2}$$

Γ1. Να αποδείξετε ότι $f'(x) = \frac{1 - x^2}{(x^2 + 1)^2}$

Μονάδες 6

Γ2. Να βρείτε το ρυθμό μεταβολής της συνάρτησης f στα σημεία $x_1 = -1$ και $x_2 = 1$.

Μονάδες 4

Γ3. Να μελετήσετε τη συνάρτηση f ως προς τη μονοτονία και να βρείτε τα τοπικά της ακρότατα.

Μονάδες 12

Γ4. Να συγκρίνετε τις τιμές $f(2015)$ και $f(2016)$ της συνάρτησης f .

Μονάδες 3

ΘΕΜΑ Δ

Δίνεται η συνάρτηση $f: \mathbb{R} \rightarrow \mathbb{R}$ με τύπο:

$$f(x) = x^2 + \alpha x - 3, \alpha \in \mathbb{R}.$$

Δ1. Να υπολογίσετε την τιμή του α αν

$$\alpha = \lim_{x \rightarrow 4} \frac{x^2 - 6x + 8}{x - 4}$$

Μονάδες 8

Δ2. Για $\alpha = 2$ να βρείτε την $f'(x)$.

Μονάδες 3

Δ3. Για $\alpha = 2$ να βρείτε την εξίσωση της εφαπτομένης της γραφικής παράστασης της συνάρτησης f στο σημείο $M(-2, f(-2))$.

Μονάδες 8

ΑΡΧΗ 4ΗΣ ΣΕΛΙΔΑΣ
ΝΕΟ ΣΥΣΤΗΜΑ Γ΄ ΗΜΕΡΗΣΙΩΝ

Δ4. Αν τα σημεία $A_1(x_1, y_1), A_2(x_2, y_2), A_3(x_3, y_3), A_4(x_4, y_4), A_5(x_5, y_5)$ ανήκουν στην ευθεία $\varepsilon: y = -2x - 7$ και οι τετμημένες x_1, x_2, x_3, x_4, x_5 των σημείων A_1, A_2, A_3, A_4, A_5 έχουν μέση τιμή $\bar{x} = 2$, να βρείτε τη μέση τιμή \bar{y} των τεταγμένων y_1, y_2, y_3, y_4, y_5 των σημείων αυτών.

Μονάδες 6

ΟΔΗΓΙΕΣ ΓΙΑ ΤΟΥΣ ΕΞΕΤΑΖΟΜΕΝΟΥΣ

1. Στο τετράδιο να γράψετε μόνο τα προκαταρκτικά (ημερομηνία, εξεταζόμενο μάθημα). **Να μην αντιγράψετε** τα θέματα στο τετράδιο.
2. Να γράψετε το ονοματεπώνυμό σας στο πάνω μέρος των φωτοαντιγράφων αμέσως μόλις σας παραδοθούν. **Δεν επιτρέπεται να γράψετε** καμιά άλλη σημείωση. Κατά την αποχώρησή σας να παραδώσετε μαζί με το τετράδιο και τα φωτοαντίγραφα.
3. Να απαντήσετε **στο τετράδιό σας** σε όλα τα θέματα, **μόνο με μπλε ή μαύρο στυλό ανεξίτηλης μελάνης**.
4. Κάθε απάντηση επιστημονικά τεκμηριωμένη είναι αποδεκτή.
5. Διάρκεια εξέτασης: τρεις (3) ώρες μετά τη διανομή των φωτοαντιγράφων.
6. Ώρα δυνατής αποχώρησης: **10.00 π.μ.**

ΚΑΛΗ ΕΠΙΤΥΧΙΑ

ΤΕΛΟΣ ΜΗΝΥΜΑΤΟΣ

ΑΡΧΗ 1ΗΣ ΣΕΛΙΔΑΣΝΕΟ ΣΥΣΤΗΜΑ Γ΄ ΗΜΕΡΗΣΙΩΝΕΠΑΝΑΛΗΠΤΙΚΕΣ ΠΑΝΕΛΛΑΔΙΚΕΣ ΕΞΕΤΑΣΕΙΣ
ΗΜΕΡΗΣΙΩΝ ΕΠΑΓΓΕΛΜΑΤΙΚΩΝ ΛΥΚΕΙΩΝ

ΠΑΡΑΣΚΕΥΗ 24 ΙΟΥΝΙΟΥ 2016

ΕΞΕΤΑΖΟΜΕΝΟ ΜΑΘΗΜΑ: ΜΑΘΗΜΑΤΙΚΑ (ΑΛΓΕΒΡΑ)

ΣΥΝΟΛΟ ΣΕΛΙΔΩΝ: ΤΕΣΣΕΡΙΣ (4)

ΘΕΜΑ Α

A1. Αν f παραγωγίσιμη συνάρτηση σ' ένα σύνολο A , να αποδείξετε ότι $(c \cdot f(x))' = c \cdot f'(x)$, όπου $c \in \mathbb{R}$, $x \in A$.

Μονάδες 10

A2. Πότε μια συνάρτηση f λέγεται γνησίως αύξουσα σε ένα διάστημα Δ του πεδίου ορισμού της.

Μονάδες 5

A3. Να χαρακτηρίσετε τις προτάσεις που ακολουθούν, γράφοντας στο τετράδιό σας, δίπλα στο γράμμα που αντιστοιχεί σε κάθε πρόταση, τη λέξη **Σωστό**, αν η πρόταση είναι σωστή ή τη λέξη **Λάθος**, αν η πρόταση είναι λανθασμένη.

α) Ένα δείγμα τιμών μιας μεταβλητής θα είναι ομοιογενές, εάν ο συντελεστής μεταβολής ξεπερνά το 10%.

(Μον. 2)

β) Σε μία κανονική ή περίπου κανονική κατανομή στο διάστημα $(\bar{x} - 2s, \bar{x} + 2s)$ βρίσκεται το 99,7% περίπου των παρατηρήσεων, όπου \bar{x} η μέση τιμή και s η τυπική απόκλιση.

(Μον. 2)

γ) Αν f και g είναι παραγωγίσιμες συναρτήσεις, τότε για την παράγωγο της σύνθετης συνάρτησης $f(g(x))$ ισχύει:

$$(f(g(x)))' = f'(g(x)) \cdot g'(x)$$

(Μον. 2)

δ) Η διάμεσος (δ) ενός δείγματος n παρατηρήσεων επηρεάζεται από ακραίες παρατηρήσεις.

(Μον. 2)ΤΕΛΟΣ 1ΗΣ ΑΠΟ 4 ΣΕΛΙΔΕΣ

ΑΡΧΗ 2ΗΣ ΣΕΛΙΔΑΣ
ΝΕΟ ΣΥΣΤΗΜΑ Γ΄ ΗΜΕΡΗΣΙΩΝ

ε) $(x^n)' = (n-1) \cdot x^{n-1}$, όπου n φυσικός αριθμός.

(Μον. 2)
Μονάδες 10

ΘΕΜΑ Β

Επτά διαδοχικοί περιττοί αριθμοί έχουν διάμεσο 13.

B1. Να αποδείξετε ότι οι αριθμοί αυτοί είναι οι:

7, 9, 11, 13, 15, 17, 19.

Μονάδες 5

B2. Να υπολογίσετε τη μέση τιμή \bar{X} των παραπάνω αριθμών.

Μονάδες 5

B3. Να υπολογίσετε την τυπική απόκλιση s των παραπάνω αριθμών.

Μονάδες 7

B4. Αν προσθέσουμε σε καθέναν από τους παραπάνω αριθμούς τον αριθμό 3, να βρεθεί ο συντελεστής μεταβολής CV των νέων αριθμών που θα προκύψουν.

Μονάδες 8

ΘΕΜΑ Γ

Δίνεται η συνάρτηση $f: \mathbb{R} \rightarrow \mathbb{R}$ με τύπο:

$$f(x) = \frac{1}{3}x^3 - x^2 - 3x - \frac{4}{3}$$

Γ1. Να βρείτε τις $f'(x)$ και $f''(x)$.

Μονάδες 6

Γ2. Να βρείτε το: $\lim_{x \rightarrow 1} \frac{f'(x) + f''(x) + 4}{\sqrt{x} - 1}$

Μονάδες 7

ΑΡΧΗ 3ΗΣ ΣΕΛΙΔΑΣ
ΝΕΟ ΣΥΣΤΗΜΑ Γ΄ ΗΜΕΡΗΣΙΩΝ

Γ3. Να βρείτε σε ποιο σημείο της γραφικής παράστασης της συνάρτησης f , η εφαπτομένη της είναι παράλληλη στην ευθεία $y = -4x + 16$.

Μονάδες 6

Γ4. Να βρείτε την εξίσωση της εφαπτομένης της γραφικής παράστασης της συνάρτησης f στο $x_0 = 1$.

Μονάδες 6

ΘΕΜΑ Δ

Δίνεται η συνάρτηση $f: \mathbb{R} \rightarrow \mathbb{R}$ με τύπο:

$$f(x) = x^4 + \alpha x + \beta, \quad \alpha, \beta \in \mathbb{R}$$

Δ1. Να υπολογίσετε τις τιμές των α (μον. 6) και β (μον. 2) αν

$$f(0) = 2019 \text{ και } \lim_{h \rightarrow 0} \frac{f(-1+h) - f(-1)}{h} = 0$$

Μονάδες 8

Δ2. Για $\alpha = 4$ και $\beta = 2019$, να μελετήσετε τη συνάρτηση f ως προς τη μονοτονία και να βρείτε το ακρότατό της.

Μονάδες 12

Δ3. Να αποδείξετε ότι $x^4 + 4x \geq -3$ για κάθε $x \in \mathbb{R}$.

Μονάδες 5

ΑΡΧΗ 4ΗΣ ΣΕΛΙΔΑΣ
ΝΕΟ ΣΥΣΤΗΜΑ Γ΄ ΗΜΕΡΗΣΙΩΝ

ΟΔΗΓΙΕΣ ΓΙΑ ΤΟΥΣ ΕΞΕΤΑΖΟΜΕΝΟΥΣ

1. Στο τετράδιο να γράψετε μόνο τα προκαταρκτικά (ημερομηνία, εξεταζόμενο μάθημα). **Να μην αντιγράψετε** τα θέματα στο τετράδιο.
2. Να γράψετε το ονοματεπώνυμό σας στο πάνω μέρος των φωτοαντιγράφων αμέσως μόλις σας παραδοθούν. **Δεν επιτρέπεται να γράψετε** καμιά άλλη σημείωση. Κατά την αποχώρησή σας να παραδώσετε μαζί με το τετράδιο και τα φωτοαντίγραφα.
3. Να απαντήσετε **στο τετράδιό σας** σε όλα τα θέματα, **μόνο με μπλε ή μαύρο στυλό ανεξίτηλης μελάνης**.
4. Κάθε απάντηση επιστημονικά τεκμηριωμένη είναι αποδεκτή.
5. Διάρκεια εξέτασης: τρεις (3) ώρες μετά τη διανομή των φωτοαντιγράφων.
6. Ώρα δυνατής αποχώρησης: **18.30**

ΚΑΛΗ ΕΠΙΤΥΧΙΑ

ΤΕΛΟΣ ΜΗΝΥΜΑΤΟΣ

ΑΡΧΗ 1ΗΣ ΣΕΛΙΔΑΣ
Γ΄ ΤΑΞΗΣ ΗΜΕΡΗΣΙΩΝ & Α΄ ΤΑΞΗΣ ΕΣΠΕΡΙΝΩΝ

**ΠΑΝΕΛΛΑΔΙΚΕΣ ΕΞΕΤΑΣΕΙΣ
ΗΜΕΡΗΣΙΩΝ ΚΑΙ ΕΣΠΕΡΙΝΩΝ ΕΠΑΓΓΕΛΜΑΤΙΚΩΝ ΛΥΚΕΙΩΝ
ΠΕΜΠΤΗ 8 ΙΟΥΝΙΟΥ 2017**

**ΕΞΕΤΑΖΟΜΕΝΟ ΜΑΘΗΜΑ:
ΜΑΘΗΜΑΤΙΚΑ (ΑΛΓΕΒΡΑ)**

ΣΥΝΟΛΟ ΣΕΛΙΔΩΝ: ΤΕΣΣΕΡΙΣ (4)

ΘΕΜΑ Α

A1. Αν οι συναρτήσεις f , g είναι παραγωγίσιμες στο \mathbb{R} , να αποδείξετε ότι:

$$(f(x) + g(x))' = f'(x) + g'(x)$$

Μονάδες 10

A2. Να χαρακτηρίσετε τις προτάσεις που ακολουθούν, γράφοντας στο τετράδιό σας, δίπλα στο γράμμα που αντιστοιχεί σε κάθε πρόταση, τη λέξη **Σωστό**, αν η πρόταση είναι σωστή ή τη λέξη **Λάθος**, αν η πρόταση είναι λανθασμένη.

α) Το ραβδόγραμμα χρησιμοποιείται για τη γραφική παράσταση μιας ποσοτικής μεταβλητής.

(Μον. 2)

β) Μία συνάρτηση f με πεδίο ορισμού A λέγεται συνεχής, αν για κάθε $x_0 \in A$ ισχύει:

$$\lim_{x \rightarrow x_0} f(x) = f(x_0)$$

(Μον. 2)

γ) Το εύρος (R) είναι ένα μέτρο διασποράς.

(Μον. 2)

Μονάδες 6

A3. Να μεταφέρετε στο τετράδιό σας τις παρακάτω ισότητες και να τις συμπληρώσετε:

α) $(x^p)' = \dots$, όπου p ρητός αριθμός.

(Μον. 3)

ΤΕΛΟΣ 1ΗΣ ΑΠΟ 4 ΣΕΛΙΔΕΣ

ΑΡΧΗ 2ΗΣ ΣΕΛΙΔΑΣ
Γ΄ ΤΑΞΗΣ ΗΜΕΡΗΣΙΩΝ & Λ΄ ΤΑΞΗΣ ΕΣΠΕΡΙΝΩΝ

β) $(\text{συν } x)' = \dots$

(Μον. 3)

γ) Αν x_1, x_2, \dots, x_n είναι οι τιμές μιας ποσοτικής μεταβλητής X ενός δείγματος μεγέθους n και w_1, w_2, \dots, w_n είναι οι αντίστοιχοι συντελεστές στάθμισης (βαρύτητας), τότε ο σταθμικός μέσος βρίσκεται από τον τύπο:

$$\bar{x} = \dots$$

(Μον. 3)

Μονάδες 9

ΘΕΜΑ Β

Οι βαθμοί ενός φοιτητή σε 10 μαθήματα είναι:

$$4, \kappa, 5, 6, 2\kappa + 1, 4, 6, \kappa + 2, 6, 4$$

όπου:

$$\kappa = \lim_{x \rightarrow 1} \frac{x^2 + x - 2}{x - 1}$$

B1. Να αποδείξετε ότι $\kappa = 3$.

Μονάδες 7

B2. Για $\kappa = 3$, να υπολογίσετε τη μέση τιμή (\bar{x}) των βαθμών του φοιτητή.

Μονάδες 5

B3. Για $\kappa = 3$, να υπολογίσετε τη διακύμανση (s^2).

Μονάδες 8

B4. Για $\kappa = 3$, να υπολογίσετε τον συντελεστή μεταβολής CV. Δίνεται ότι $\sqrt{1,4} \cong 1,18$.

Μονάδες 5

ΑΡΧΗ 3ΗΣ ΣΕΛΙΔΑΣ
Γ΄ ΤΑΞΗΣ ΗΜΕΡΗΣΙΩΝ & Λ΄ ΤΑΞΗΣ ΕΣΠΕΡΙΝΩΝ

ΘΕΜΑ Γ

Οι ηλικίες των εργαζομένων σε μια επιχείρηση ακολουθούν περίπου την κανονική κατανομή.

Εάν το 50% των εργαζομένων έχουν ηλικία μεγαλύτερη των 40 ετών και το 16% των εργαζομένων έχουν ηλικία μικρότερη των 35 ετών, να αποδείξετε ότι:

Γ1. Η μέση τιμή των ηλικιών των εργαζομένων είναι $\bar{x} = 40$.
Μονάδες 5

Γ2. Η τυπική απόκλιση είναι $s = 5$.
Μονάδες 10

Εάν οι εργαζόμενοι της επιχείρησης είναι 400, να βρείτε:

Γ3. Πόσοι εργαζόμενοι έχουν ηλικία μεγαλύτερη των 45 ετών.
Μονάδες 5

Γ4. Πόσοι εργαζόμενοι έχουν ηλικία μεγαλύτερη των 30 ετών και μικρότερη των 45 ετών.
Μονάδες 5

ΘΕΜΑ Δ

Δίνεται η συνάρτηση $f: \mathbb{R} \rightarrow \mathbb{R}$ με τύπο:

$$f(x) = -\frac{1}{3}x^3 + 2x^2 - 3x + 1$$

Δ1. Να μελετήσετε τη συνάρτηση f ως προς τη μονοτονία.
Μονάδες 8

Δ2. Να βρείτε τις θέσεις, το είδος και τις τιμές των τοπικών ακροτάτων της συνάρτησης f .
Μονάδες 6

Δ3. Να βρείτε το σημείο της γραφικής παράστασης της συνάρτησης f στο οποίο η εφαπτομένη είναι παράλληλη στην ευθεία $y = x + 2017$.
Μονάδες 6

ΑΡΧΗ 4ΗΣ ΣΕΛΙΔΑΣ

Γ΄ ΤΑΞΗΣ ΗΜΕΡΗΣΙΩΝ & Λ΄ ΤΑΞΗΣ ΕΣΠΕΡΙΝΩΝ

Δ4. Εάν τα σημεία $M_1(x_1, y_1)$, $M_2(x_2, y_2)$, $M_3(x_3, y_3)$, $M_4(x_4, y_4)$, $M_5(x_5, y_5)$ ανήκουν στη γραφική παράσταση της $y = f''(x)$ και η τυπική απόκλιση των τετμημένων x_1, x_2, x_3, x_4, x_5 των $M_1(x_1, y_1)$, $M_2(x_2, y_2)$, $M_3(x_3, y_3)$, $M_4(x_4, y_4)$, $M_5(x_5, y_5)$ είναι ίση με 3, να βρείτε την τυπική απόκλιση των τεταγμένων y_1, y_2, y_3, y_4, y_5 των σημείων $M_1(x_1, y_1)$, $M_2(x_2, y_2)$, $M_3(x_3, y_3)$, $M_4(x_4, y_4)$, $M_5(x_5, y_5)$.

Μονάδες 5

ΟΔΗΓΙΕΣ ΓΙΑ ΤΟΥΣ ΕΞΕΤΑΖΟΜΕΝΟΥΣ

1. Στο τετράδιο να γράψετε μόνο τα προκαταρκτικά (ημερομηνία, εξεταζόμενο μάθημα). **Να μην αντιγράψετε** τα θέματα στο τετράδιο.
2. Να γράψετε το ονοματεπώνυμό σας στο πάνω μέρος των φωτοαντιγράφων αμέσως μόλις σας παραδοθούν. **Δεν επιτρέπεται να γράψετε** καμιά άλλη σημείωση. Κατά την αποχώρησή σας να παραδώσετε μαζί με το τετράδιο και τα φωτοαντίγραφα.
3. Να απαντήσετε **στο τετράδιό σας** σε όλα τα θέματα, **μόνο με μπλε ή μαύρο στυλό ανεξίτηλης μελάνης**.
4. Κάθε απάντηση επιστημονικά τεκμηριωμένη είναι αποδεκτή.
5. Διάρκεια εξέτασης: τρεις (3) ώρες μετά τη διανομή των φωτοαντιγράφων.
6. Ώρα δυνατής αποχώρησης: **10.00 π.μ.**

ΚΑΛΗ ΕΠΙΤΥΧΙΑ

ΤΕΛΟΣ ΜΗΝΥΜΑΤΟΣ

ΤΕΛΟΣ 4ΗΣ ΑΠΟ 4 ΣΕΛΙΔΕΣ

ΑΡΧΗ 1ΗΣ ΣΕΛΙΔΑΣ

Γ΄ ΤΑΞΗΣ ΗΜΕΡΗΣΙΩΝ & Λ΄ ΤΑΞΗΣ ΕΣΠΕΡΙΝΩΝ

ΕΠΑΝΑΛΗΠΤΙΚΕΣ ΠΑΝΕΛΛΑΔΙΚΕΣ ΕΞΕΤΑΣΕΙΣ
 ΗΜΕΡΗΣΙΩΝ ΚΑΙ ΕΣΠΕΡΙΝΩΝ ΕΠΑΓΓΕΛΜΑΤΙΚΩΝ ΛΥΚΕΙΩΝ
 ΤΕΤΑΡΤΗ 20 ΣΕΠΤΕΜΒΡΙΟΥ 2017

ΕΞΕΤΑΖΟΜΕΝΟ ΜΑΘΗΜΑ:
 ΜΑΘΗΜΑΤΙΚΑ (ΑΛΓΕΒΡΑ)

ΣΥΝΟΛΟ ΣΕΛΙΔΩΝ: ΤΕΣΣΕΡΙΣ (4)

ΘΕΜΑ Α

A1. Έστω t_1, t_2, \dots, t_n οι παρατηρήσεις μιας ποσοτικής μεταβλητής X ενός δείγματος μεγέθους n που έχουν μέση τιμή \bar{x} . Σχηματίζουμε τις διαφορές $t_1 - \bar{x}, t_2 - \bar{x}, \dots, t_n - \bar{x}$. Να αποδείξετε ότι ο αριθμητικός μέσος των διαφορών αυτών είναι ίσος με μηδέν.

Μονάδες 7

A2. Πότε μια συνάρτηση f με πεδίο ορισμού A λέγεται συνεχής.

Μονάδες 4

A3. Έστω μια συνάρτηση f με πεδίο ορισμού A . Πότε λέμε ότι η συνάρτηση f παρουσιάζει τοπικό μέγιστο στο $x_0 \in A$.

Μονάδες 4

A4. Να χαρακτηρίσετε τις προτάσεις που ακολουθούν, γράφοντας στο τετράδιό σας, δίπλα στο γράμμα που αντιστοιχεί σε κάθε πρόταση, τη λέξη **Σωστό**, αν η πρόταση είναι σωστή ή τη λέξη **Λάθος**, αν η πρόταση είναι λανθασμένη.

α) Αν υπάρχει το $\lim_{x \rightarrow x_0} f(x)$ και είναι ίσο με $l \in \mathbb{R}$, τότε

$$\lim_{x \rightarrow x_0} (f(x))^v = l^v, \text{ όπου } v \text{ φυσικός αριθμός.}$$

β) Για κάθε $x > 0$ ισχύει $(\sqrt{x})' = \frac{1}{\sqrt{x}}$.

ΤΕΛΟΣ 1ΗΣ ΑΠΟ 4 ΣΕΛΙΔΕΣ

ΑΡΧΗ 2ΗΣ ΣΕΛΙΔΑΣΓ΄ ΤΑΞΗΣ ΗΜΕΡΗΣΙΩΝ & Λ΄ ΤΑΞΗΣ ΕΣΠΕΡΙΝΩΝ

- γ) Σε μια κανονική ή περίπου κανονική κατανομή στο διάστημα $(\bar{x} - s, \bar{x} + s)$ βρίσκεται το 95% περίπου των παρατηρήσεων, όπου \bar{x} η μέση τιμή και s η τυπική απόκλιση.
- δ) Μια συνάρτηση f λέγεται γνησίως αύξουσα σε ένα διάστημα Δ του πεδίου ορισμού της, όταν για οποιαδήποτε σημεία $x_1, x_2 \in \Delta$ με $x_1 < x_2$ ισχύει $f(x_1) > f(x_2)$.
- ε) Η σχετική συχνότητα f_i της τιμής x_i δίνεται από τον τύπο $f_i = \frac{v_i}{v}$, όπου v_i η συχνότητα της τιμής x_i και v το μέγεθος του δείγματος.

Μονάδες 10**ΘΕΜΑ Β**

Οι μέγιστες θερμοκρασίες σε 6 πόλεις μια ημέρα του χειμώνα είναι:

7, 8, 10, 5, 11, 7

B1. Για τις παρατηρήσεις αυτές, να υπολογίσετε:

- α. τη μέση τιμή \bar{x} (μον. 3)
β. τη διάμεσο \bar{d} (μον. 3)
γ. τη διακύμανση s^2 (μον. 5)

Μονάδες 11

B2. Να αποδείξετε ότι το δείγμα των παραπάνω παρατηρήσεων δεν είναι ομοιογενές.

Μονάδες 5

B3. Να βρείτε τον μικρότερο θετικό αριθμό τον οποίο πρέπει να προσθέσουμε σε καθενιά από τις παραπάνω παρατηρήσεις, ώστε το δείγμα που θα προκύψει να είναι ομοιογενές.

Μονάδες 9

ΑΡΧΗ 3ΗΣ ΣΕΛΙΔΑΣΓ΄ ΤΑΞΗΣ ΗΜΕΡΗΣΙΩΝ & Λ΄ ΤΑΞΗΣ ΕΣΠΕΡΙΝΩΝ**ΘΕΜΑ Γ**

Δίνεται η συνάρτηση $f:\mathbb{R} \rightarrow \mathbb{R}$ με τύπο:

$$f(x) = x^3 - \kappa x + 2, \kappa \in \mathbb{R}.$$

Γ1. Να υπολογίσετε την τιμή του $\kappa \in \mathbb{R}$ ώστε η γραφική παράσταση της συνάρτησης f να τέμνει τον άξονα $x'x$ στο σημείο με τετμημένη 1.

Μονάδες 5

Γ2. Για $\kappa=3$ να βρείτε το $\lim_{x \rightarrow 1} \frac{f(x)}{x^2 - 1}$.

Μονάδες 10

Γ3. Για $\kappa=3$ να βρείτε την εξίσωση της εφαπτομένης της γραφικής παράστασης της συνάρτησης f στο σημείο $M(2, f(2))$.

Μονάδες 10

ΘΕΜΑ Δ

Δίνεται η συνάρτηση f με τύπο:

$$f(x) = \frac{x}{x^2 + 4} + \frac{3}{4}$$

Δ1. Να βρείτε το πεδίο ορισμού A της συνάρτησης f .

Μονάδες 3

Δ2. Να αποδείξετε ότι $f'(x) = \frac{4 - x^2}{(x^2 + 4)^2}$.

Μονάδες 5

Δ3. Να μελετήσετε τη συνάρτηση f ως προς τη μονοτονία και να βρείτε τα τοπικά της ακρότατα.

Μονάδες 8

Δ4. Αν οι τιμές $f(-1)$, $f(1)$, $f(0,25)$, $f(-0,5)$, $f(0)$ είναι παρατηρήσεις μιας μεταβλητής X , τότε να τις διατάξετε κατά αύξουσα σειρά (μον. 5) και να υπολογίσετε το εύρος τους (R) (μον. 2) και τη διάμεσό τους (δ) (μον. 2).

Μονάδες 9

ΑΡΧΗ 4ΗΣ ΣΕΛΙΔΑΣ
Γ΄ ΤΑΞΗΣ ΗΜΕΡΗΣΙΩΝ & Α΄ ΤΑΞΗΣ ΕΣΠΕΡΙΝΩΝ

ΟΔΗΓΙΕΣ ΓΙΑ ΤΟΥΣ ΕΞΕΤΑΖΟΜΕΝΟΥΣ

1. Στο τετράδιο να γράψετε **μόνον** τα προκαταρκτικά (ημερομηνία, εξεταζόμενο μάθημα). **Να μην αντιγράψετε** τα θέματα στο τετράδιο.
2. Να γράψετε το ονοματεπώνυμό σας στο πάνω μέρος των φωτοαντιγράφων, αμέσως μόλις σας παραδοθούν. **Δεν επιτρέπεται να γράψετε** καμιά άλλη σημείωση. Κατά την αποχώρησή σας να παραδώσετε μαζί με το τετράδιο και τα φωτοαντίγραφα.
3. Να απαντήσετε **στο τετράδιό σας** σε όλα τα θέματα, **μόνον με μπλε ή μόνον με μαύρο στυλό ανεξίτηλης μελάνης**.
4. Κάθε τεκμηριωμένη απάντηση είναι αποδεκτή.
5. Διάρκεια εξέτασης: τρεις (3) ώρες μετά τη διανομή των φωτοαντιγράφων.
6. Ώρα δυνατής αποχώρησης: **17.00**

ΚΑΛΗ ΕΠΙΤΥΧΙΑ

ΤΕΛΟΣ ΜΗΝΥΜΑΤΟΣ

ΤΕΛΟΣ 4ΗΣ ΑΠΟ 4 ΣΕΛΙΔΕΣ

ΑΡΧΗ 1ΗΣ ΣΕΛΙΔΑΣ

**ΠΑΝΕΛΛΑΔΙΚΕΣ ΕΞΕΤΑΣΕΙΣ
Γ' ΗΜΕΡΗΣΙΩΝ - Δ' ΕΣΠΕΡΙΝΩΝ - ΑΥΤΟΤΕΛΩΝ ΤΜΗΜΑΤΩΝ
& ΤΜΗΜΑΤΩΝ ΣΥΝΔΙΔΑΣΚΑΛΙΑΣ ΕΠΑΓΓΕΛΜΑΤΙΚΩΝ ΛΥΚΕΙΩΝ
ΣΑΒΒΑΤΟ 9 ΙΟΥΝΙΟΥ 2018**

**ΕΞΕΤΑΖΟΜΕΝΟ ΜΑΘΗΜΑ:
ΜΑΘΗΜΑΤΙΚΑ (ΑΛΓΕΒΡΑ)**

ΣΥΝΟΛΟ ΣΕΛΙΔΩΝ: ΤΕΣΣΕΡΙΣ (4)

ΘΕΜΑ Α

A1. Έστω x_1, x_2, \dots, x_k οι τιμές μιας μεταβλητής X που αφορά τα άτομα ενός δείγματος μεγέθους n , όπου k, n μη μηδενικοί φυσικοί αριθμοί με $k \leq n$.

α. Τι ονομάζεται απόλυτη συχνότητα v_i που αντιστοιχεί στην τιμή x_i , $i=1, 2, \dots, k$;

(Μον. 3)

β. Τι ονομάζεται σχετική συχνότητα f_i της τιμής x_i , $i=1, 2, \dots, k$;

(Μον. 3)

γ. Να αποδείξετε ότι $f_1 + f_2 + \dots + f_k = 1$.

(Μον. 4)

Μονάδες 10

A2. Έστω f μία συνάρτηση με πεδίο ορισμού το A . Πότε λέμε ότι η συνάρτηση f είναι παραγωγίσιμη στο σημείο x_0 του πεδίου ορισμού της;

Μονάδες 5

A3. Να χαρακτηρίσετε τις προτάσεις που ακολουθούν, γράφοντας στο τετράδιό σας, δίπλα στο γράμμα που αντιστοιχεί σε κάθε πρόταση, τη λέξη **Σωστό**, αν η πρόταση είναι σωστή, ή τη λέξη **Λάθος**, αν η πρόταση είναι λανθασμένη.

ΤΕΛΟΣ 1ΗΣ ΑΠΟ 4 ΣΕΛΙΔΕΣ

ΑΡΧΗ 2ΗΣ ΣΕΛΙΔΑΣ

- α. Σε μια κανονική ή περίπου κανονική κατανομή το 68% περίπου των παρατηρήσεων βρίσκεται στο διάστημα $(\bar{x}-s, \bar{x}+s)$, όπου \bar{x} η μέση τιμή και s η τυπική απόκλιση.
- β. $(\sin x)' = \eta\mu x$
- γ. Το κυκλικό διάγραμμα χρησιμοποιείται για τη γραφική παράσταση μόνο ποσοτικών δεδομένων.
- δ. Η διακύμανση (s^2) είναι μέτρο διασποράς.
- ε. Αν μία συνάρτηση f είναι παραγωγίσιμη σε ένα διάστημα Δ και ισχύει $f'(x) < 0$ για κάθε εσωτερικό σημείο του Δ , τότε η f είναι γνησίως αύξουσα στο Δ .

Μονάδες 10**ΘΕΜΑ Β**

Δίνονται οι αριθμοί: 14, 12, 18, $4a-1$, 16 με $a \in \mathbb{R}$.

- B1.** Αν η διάμεσος των παραπάνω αριθμών είναι ίση με 15, να υπολογίσετε την τιμή του a .

Μονάδες 7

- B2.** Για $a=4$ να υπολογίσετε τη διακύμανση (s^2) .

Μονάδες 7

- B3.** Για $a=4$ να εξετάσετε αν το δείγμα των παραπάνω αριθμών είναι ομοιογενές.

Μονάδες 5

- B4.** Για $a=4$ να υπολογίσετε το συντελεστή μεταβολής των αριθμών που θα προκύψουν, αν ο καθένας από τους παραπάνω αριθμούς πολλαπλασιαστεί με το -2 και στη συνέχεια αυξηθεί κατά 5.

Μονάδες 6

ΑΡΧΗ 3ΗΣ ΣΕΛΙΔΑΣ**ΘΕΜΑ Γ**

Δίνεται η συνάρτηση f με τύπο:

$$f(x) = 2x^3 - 3\kappa x^2 + \kappa, \quad \kappa \in \mathbb{R} \text{ και } x \in \mathbb{R}.$$

Γ1. Εάν η εφαπτομένη της γραφικής παράστασης της συνάρτησης f στο σημείο $M(1, f(1))$ είναι παράλληλη στον άξονα $x'x$, να υπολογίσετε τον αριθμό κ .

Μονάδες 5

Γ2. Για $\kappa=1$ να βρείτε την τιμή του x για την οποία ο ρυθμός μεταβολής της $f(x)$ γίνεται ελάχιστος.

Μονάδες 10

Γ3. Για $\kappa=1$ να βρείτε την εξίσωση της εφαπτομένης της γραφικής παράστασης της f' στο σημείο $(-1, f'(-1))$.

Μονάδες 10

ΘΕΜΑ Δ

Δίνεται η συνάρτηση f με τύπο:

$$f(x) = \sqrt{x^2 + 4} + 2018, \quad x \in \mathbb{R}.$$

Δ1. Να δείξετε ότι $f'(x) = \frac{x}{\sqrt{x^2 + 4}}$

Μονάδες 6

Δ2. Να μελετήσετε τη συνάρτηση f ως προς τη μονοτονία και να βρείτε το είδος και την τιμή του ακρότατου.

Μονάδες 9

Δ3. Να υπολογίσετε το όριο

$$\lim_{x \rightarrow 0} \frac{(x^2 + 4)f'(x) - 2x}{x^2}$$

Μονάδες 10

ΑΡΧΗ 4ΗΣ ΣΕΛΙΔΑΣ**ΟΔΗΓΙΕΣ ΓΙΑ ΤΟΥΣ ΕΞΕΤΑΖΟΜΕΝΟΥΣ**

1. Στο τετράδιο να γράψετε μόνο τα προκαταρκτικά (ημερομηνία, εξεταζόμενο μάθημα). **Να μην αντιγράψετε** τα θέματα στο τετράδιο.
2. Να γράψετε το ονοματεπώνυμό σας στο πάνω μέρος των φωτοαντιγράφων αμέσως μόλις σας παραδοθούν. **Δεν επιτρέπεται να γράψετε** καμιά άλλη σημείωση. Κατά την αποχώρησή σας να παραδώσετε μαζί με το τετράδιο και τα φωτοαντίγραφα.
3. Να απαντήσετε **στο τετράδιό σας** σε όλα τα θέματα, **μόνο με μπλε ή μαύρο στυλό ανεξίτηλης μελάνης**.
4. Κάθε απάντηση επιστημονικά τεκμηριωμένη είναι αποδεκτή.
5. Διάρκεια εξέτασης: τρεις (3) ώρες μετά τη διανομή των φωτοαντιγράφων.
6. Ώρα δυνατής αποχώρησης: **10.00 π.μ.**

ΚΑΛΗ ΕΠΙΤΥΧΙΑ**ΤΕΛΟΣ ΜΗΝΥΜΑΤΟΣ**

ΑΡΧΗ 1ΗΣ ΣΕΛΙΔΑΣ
Γ΄ ΤΑΞΗΣ ΗΜΕΡΗΣΙΩΝ & Δ΄ ΤΑΞΗΣ ΕΣΠΕΡΙΝΩΝ
ΕΠΑΝΑΛΗΠΤΙΚΕΣ ΠΑΝΕΛΛΑΔΙΚΕΣ ΕΞΕΤΑΣΕΙΣ
ΗΜΕΡΗΣΙΩΝ & ΕΣΠΕΡΙΝΩΝ ΕΠΑΓΓΕΛΜΑΤΙΚΩΝ ΛΥΚΕΙΩΝ

ΠΕΜΠΤΗ 20 ΣΕΠΤΕΜΒΡΙΟΥ 2018

ΕΞΕΤΑΖΟΜΕΝΟ ΜΑΘΗΜΑ:
ΜΑΘΗΜΑΤΙΚΑ (ΑΛΓΕΒΡΑ)

ΣΥΝΟΛΟ ΣΕΛΙΔΩΝ: ΠΕΝΤΕ (5)

ΘΕΜΑ Α

A1. Αν η f είναι μία παραγωγίσιμη συνάρτηση σε ένα σύνολο A , να αποδείξετε ότι:

$$(c \cdot f(x))' = c \cdot f'(x), \text{ όπου } c \in \mathbb{R}, x \in A$$

Μονάδες 10

A2. Να δώσετε τον ορισμό της διαμέσου (δ) ενός δείγματος n παρατηρήσεων όταν ο n είναι άρτιος αριθμός.

Μονάδες 5

A3. Να χαρακτηρίσετε τις προτάσεις που ακολουθούν, γράφοντας στο τετράδιό σας, δίπλα στο γράμμα που αντιστοιχεί σε κάθε πρόταση, τη λέξη **Σωστό**, αν η πρόταση είναι σωστή, ή τη λέξη **Λάθος**, αν η πρόταση είναι λανθασμένη.

α. Αν x_i είναι τιμή μιας ποσοτικής μεταβλητής X , τότε η αθροιστική σχετική συχνότητα F_i εκφράζει το ποσοστό των παρατηρήσεων που είναι μεγαλύτερες της τιμής x_i .

β. Η ταχύτητα $v(t)$ ενός κινητού που κινείται ευθύγραμμα και η θέση του στον άξονα κίνησής του εκφράζεται από τη συνάρτηση $x=f(t)$ θα είναι, τη χρονική στιγμή t_0 , $v(t_0)=f'(t_0)$.

ΤΕΛΟΣ 1ΗΣ ΑΠΟ 5 ΣΕΛΙΔΕΣ

ΑΡΧΗ 2ΗΣ ΣΕΛΙΔΑΣ

Γ΄ ΤΑΞΗΣ ΗΜΕΡΗΣΙΩΝ & Λ΄ ΤΑΞΗΣ ΕΣΠΕΡΙΝΩΝ

γ. Στο ιστόγραμμα συχνοτήτων ομαδοποιημένων δεδομένων, το εμβαδόν του χωρίου που ορίζεται από το πολύγωνο συχνοτήτων και τον οριζόντιο άξονα είναι ίσο με το μέγεθος του δείγματος.

δ. Αν οι συναρτήσεις f, g είναι παραγωγίσιμες σε ένα σύνολο A , τότε:

$$(f(x) \cdot g(x))' = f'(x) \cdot g(x) - f(x) \cdot g'(x)$$

ε. Η διακύμανση εκφράζεται με τις ίδιες μονάδες μέτρησης με τις οποίες εκφράζονται οι παρατηρήσεις.

Μονάδες 10

ΘΕΜΑ Β

Ο χρόνος σε λεπτά που χρειάστηκαν 20 υποψήφιοι για να απαντήσουν σε μία ερώτηση φαίνεται στον παρακάτω πίνακα:

Χρόνος σε λεπτά	Αριθμός υποψηφίων n_i	Σχετική Συχνότητα $f_i \%$
[0,2)	1	
[2,4)	7	
[4,6)	4	
[6,8)		
[8,10)	1	
ΣΥΝΟΛΑ	20	100

B1. Να μεταφέρετε τον παραπάνω πίνακα στο τετράδιό σας και να συμπληρώσετε τα κενά, αφού υπολογίσετε τις αντίστοιχες τιμές.

Μονάδες 6

B2. Να βρείτε τη μέση τιμή \bar{x} του χρόνου που χρειάστηκαν οι υποψήφιοι για να απαντήσουν στην ερώτηση.

Μονάδες 5

ΑΡΧΗ 3ΗΣ ΣΕΛΙΔΑΣ
Γ΄ ΤΑΞΗΣ ΗΜΕΡΗΣΙΩΝ & Λ΄ ΤΑΞΗΣ ΕΣΠΕΡΙΝΩΝ

B3. Ποιο είναι το ποσοστό των μαθητών που χρειάστηκαν τουλάχιστον τέσσερα λεπτά για να απαντήσουν στην ερώτηση;

Μονάδες 5

B4. Να σχεδιάσετε το ιστόγραμμα και το πολύγωνο των σχετικών συχνοτήτων επί τοις εκατό ($f_i\%$).

Μονάδες 6

B5. Να υπολογίσετε το εμβαδόν του χωρίου που ορίζεται από το πολύγωνο των σχετικών συχνοτήτων επί τοις εκατό ($f_i\%$) και τον οριζόντιο άξονα.

Μονάδες 3

ΘΕΜΑ Γ

Δίνεται η συνάρτηση $f:\mathbb{R} \rightarrow \mathbb{R}$ με τύπο:

$$f(x) = x^3 - 2x^2 + 3x + 2$$

Έστω ότι

$$f'(1)+3, 8, f(1), 7, f(2), 10$$

είναι οι παρατηρήσεις μιας μεταβλητής X ενός δείγματος.

Γ1. Να βρείτε τις τιμές των παρατηρήσεων (μον. 3), τη μέση τιμή (μον. 4) και τη διάμεσο (μον. 3).

Μονάδες 10

Γ2. Να αποδείξετε ότι η τυπική απόκλιση των παραπάνω παρατηρήσεων είναι $s=2$.

Μονάδες 4

Γ3. Να βρείτε την εξίσωση της εφαπτομένης της γραφικής παράστασης της συνάρτησης f στο σημείο $A\left(\frac{R}{3}, f\left(\frac{R}{3}\right)\right)$, όπου R το εύρος των παραπάνω παρατηρήσεων.

Μονάδες 6

Γ4. Να μελετήσετε τη συνάρτηση f ως προς τη μονοτονία.

Μονάδες 5

ΑΡΧΗ 4ΗΣ ΣΕΛΙΔΑΣ
Γ΄ ΤΑΞΗΣ ΗΜΕΡΗΣΙΩΝ & Λ΄ ΤΑΞΗΣ ΕΣΠΕΡΙΝΩΝ

ΘΕΜΑ Δ

Θεωρήστε ότι η συνάρτηση f ικανοποιεί τη σχέση:

$$f(x) = x^2 + \frac{4s^2}{x} + \bar{x} - 27, \text{ με } x \neq 0,$$

όπου \bar{x} και s είναι η μέση τιμή και η τυπική απόκλιση αντίστοιχα των παρατηρήσεων x_1, x_2, \dots, x_n μιας μεταβλητής X ενός δείγματος. Η εφαπτομένη της γραφικής παράστασης της συνάρτησης f στο σημείο $M(2, f(2))$ είναι παράλληλη στον άξονα $x'x$ και το σημείο $K(1, 0)$ ανήκει στη γραφική παράσταση της συνάρτησης f .

Δ1. Να δείξετε ότι $s=2$ και $\bar{x}=10$.

Μονάδες 10

Δ2. Να μελετήσετε τη συνάρτηση f ως προς τη μονοτονία και να βρείτε τα ακρότατα.

Μονάδες 4

Δ3. Να βρείτε το $\lim_{x \rightarrow 2} \frac{x^2 f'(x)}{\sqrt{4x+1}-3}$

Μονάδες 6

Δ4. Έστω ότι y_1, y_2, \dots, y_n είναι οι τιμές που προκύπτουν από τις παρατηρήσεις x_1, x_2, \dots, x_n αντίστοιχα, όταν η κάθε μία από αυτές αυξηθεί κατά 10%. Να βρείτε τον συντελεστή μεταβολής των τιμών y_1, y_2, \dots, y_n .

Μονάδες 5

ΑΡΧΗ 5ΗΣ ΣΕΛΙΔΑΣ
Γ΄ ΤΑΞΗΣ ΗΜΕΡΗΣΙΩΝ & Λ΄ ΤΑΞΗΣ ΕΣΠΕΡΙΝΩΝ

ΟΔΗΓΙΕΣ ΓΙΑ ΤΟΥΣ ΕΞΕΤΑΖΟΜΕΝΟΥΣ

1. Στο τετράδιο να γράψετε **μόνον** τα προκαταρκτικά (ημερομηνία, εξεταζόμενο μάθημα). **Να μην αντιγράψετε** τα θέματα στο τετράδιο.
2. Να γράψετε το ονοματεπώνυμό σας στο πάνω μέρος των φωτοαντιγράφων, αμέσως μόλις σας παραδοθούν. **Δεν επιτρέπεται να γράψετε** καμιά άλλη σημείωση. Κατά την αποχώρησή σας να παραδώσετε μαζί με το τετράδιο και τα φωτοαντίγραφα.
3. Να απαντήσετε **στο τετράδιό σας** σε όλα τα θέματα, **μόνον με μπλε ή μόνον με μαύρο στυλό ανεξίτηλης μελάνης**.
4. Κάθε επιστημονικά τεκμηριωμένη απάντηση είναι αποδεκτή.
5. Διάρκεια εξέτασης: τρεις (3) ώρες μετά τη διανομή των φωτοαντιγράφων.
6. Ώρα δυνατής αποχώρησης: **17.00**

ΚΑΛΗ ΕΠΙΤΥΧΙΑ

ΤΕΛΟΣ ΜΗΝΥΜΑΤΟΣ

ΤΕΛΟΣ 5ΗΣ ΑΠΟ 5 ΣΕΛΙΔΕΣ

ΑΡΧΗ 1ΗΣ ΣΕΛΙΔΑΣ**ΠΑΝΕΛΛΑΔΙΚΕΣ ΕΞΕΤΑΣΕΙΣ
ΗΜΕΡΗΣΙΩΝ - ΕΣΠΕΡΙΝΩΝ ΕΠΑΓΓΕΛΜΑΤΙΚΩΝ ΛΥΚΕΙΩΝ
ΣΑΒΒΑΤΟ 8 ΙΟΥΝΙΟΥ 2019****ΕΞΕΤΑΖΟΜΕΝΟ ΜΑΘΗΜΑ:
ΜΑΘΗΜΑΤΙΚΑ (ΑΛΓΕΒΡΑ)****ΣΥΝΟΛΟ ΣΕΛΙΔΩΝ: ΤΕΣΣΕΡΙΣ (4)****ΘΕΜΑ Α**

A1. Να αποδείξετε ότι η παράγωγος της ταυτοτικής συνάρτησης $f(x)=x$ είναι $f'(x)=(x)'=1$ για κάθε x στο σύνολο \mathbb{R} των πραγματικών αριθμών.

Μονάδες 8

A2. α. Ποιες μεταβλητές λέγονται ποσοτικές; (μον. 3)

β. Πότε μια ποσοτική μεταβλητή ονομάζεται διακριτή και πότε συνεχή; (μον. 4)

Μονάδες 7

A3. Να χαρακτηρίσετε τις προτάσεις που ακολουθούν, γράφοντας στο τετράδιό σας, δίπλα στο γράμμα που αντιστοιχεί σε κάθε πρόταση, τη λέξη **Σωστό**, αν η πρόταση είναι σωστή, ή τη λέξη **Λάθος**, αν η πρόταση είναι λανθασμένη.

α. Ισχύει $\left(\frac{1}{x}\right)' = \frac{1}{x^2}$, $x \in \mathbb{R} - \{0\}$.

β. Ισχύει $(f(g(x)))' = f'(g(x)) \cdot g'(x)$, όπου f, g παραγωγίσιμες συναρτήσεις.

γ. Ο σταθμικός μέσος είναι μέτρο διασποράς.

ΤΕΛΟΣ 1ΗΣ ΑΠΟ 4 ΣΕΛΙΔΕΣ

ΑΡΧΗ 2ΗΣ ΣΕΛΙΔΑΣ

- δ. Σε κυκλικό διάγραμμα συχνοτήτων, αν α_i συμβολίζει το τόξο του κυκλικού τμήματος που αντιστοιχεί στη συχνότητα ν_i , τότε $\alpha_i = \frac{\nu_i}{\nu} \cdot 360^\circ$ για $i = 1, 2, \dots, \kappa$ και ν το μέγεθος του δείγματος.
- ε. Αν $\lim_{x \rightarrow x_0} f(x) = l_1$ και $\lim_{x \rightarrow x_0} g(x) = l_2$, όπου l_1, l_2 πραγματικοί αριθμοί, τότε $\lim_{x \rightarrow x_0} (f(x)g(x)) = l_1 l_2$.

Μονάδες 10**ΘΕΜΑ Β**

Οι τιμές ενός δείγματος είναι $11, 7, \kappa, 13, 11, 10$ όπου $\kappa > 0$. Ο συντελεστής μεταβολής του δείγματος είναι $CV = 20\%$ και η διακύμανσή του είναι $s^2 = 4$.

B1. Να υπολογίσετε τη μέση τιμή \bar{x} του παραπάνω δείγματος.

Μονάδες 5

B2. Αν $\bar{x} = 10$, να υπολογίσετε την τιμή του πραγματικού αριθμού κ .

Μονάδες 7

B3. Αν $\kappa = 8$, να υπολογίσετε τη διάμεσο (δ) (μον. 4) και το εύρος (R) (μον. 2) του παραπάνω δείγματος.

Μονάδες 6

B4. Αν από κάθε τιμή του παραπάνω δείγματος αφαιρεθεί ο αριθμός 2, να εξετάσετε αν το δείγμα των νέων τιμών είναι ομοιογενές (μον. 5) και να αιτιολογήσετε την απάντησή σας (μον. 2).

Μονάδες 7

ΑΡΧΗ 3ΗΣ ΣΕΛΙΔΑΣ**ΘΕΜΑ Γ**

Δίνεται η συνάρτηση f με τύπο:

$$f(x) = \sqrt{x^2 - 2x + 10}, \quad x \in \mathbb{R}.$$

Γ1. Να δείξετε ότι $f'(x) = \frac{x-1}{\sqrt{x^2 - 2x + 10}}$.

Μονάδες 3

Γ2. Να μελετήσετε τη συνάρτηση f ως προς τη μονοτονία (μον. 5) και να δείξετε ότι $f(x) \geq 3$ για κάθε $x \in \mathbb{R}$ (μον. 6).

Μονάδες 11

Γ3. Να βρείτε την εξίσωση της εφαπτομένης ε της γραφικής παράστασης της συνάρτησης f στο σημείο $M(5, f(5))$.

Μονάδες 6

Γ4. Αν A, B είναι τα σημεία τομής της εφαπτομένης ε με τους άξονες $x'x$ και $y'y$ αντίστοιχα, να βρείτε τις συντεταγμένες των σημείων A (μον. 3) και B (μον. 2).

Μονάδες 5

ΘΕΜΑ Δ

Δίνεται η συνάρτηση $f: \mathbb{R} \rightarrow \mathbb{R}$ με τύπο:

$$f(x) = x^3 - 3x^2 + \lambda x, \quad \text{όπου } \lambda \in \mathbb{R} \text{ σταθερά.}$$

Δ1. Για $\lambda = 3$ να μελετήσετε τη συνάρτηση f ως προς τη μονοτονία (μον. 4) και να συγκρίνετε τους αριθμούς $f\left(\frac{3}{8}\right)$ και $f\left(\frac{5}{6}\right)$ (μον. 3).

Μονάδες 7

ΑΡΧΗ 4ΗΣ ΣΕΛΙΔΑΣ

Δ2. Για $\lambda = 3$ να υπολογίσετε το όριο:

$$\lim_{x \rightarrow 1} \frac{f'(x)}{(\sqrt{x} - 1) \cdot (x^2 - x)}.$$

Μονάδες 7

Δ3. Για $\lambda = 3$ να βρείτε το σημείο της γραφικής παράστασης της συνάρτησης f , στο οποίο η εφαπτομένη έχει τον ελάχιστο συντελεστή διεύθυνσης.

Μονάδες 6

Δ4. Να βρείτε τη μικρότερη τιμή του λ για την οποία η συνάρτηση f δεν παρουσιάζει ακρότατα.

Μονάδες 5

ΟΔΗΓΙΕΣ ΓΙΑ ΤΟΥΣ ΕΞΕΤΑΖΟΜΕΝΟΥΣ

1. Στο τετράδιο να γράψετε μόνον τα προκαταρκτικά (ημερομηνία, εξεταζόμενο μάθημα). **Να μην αντιγράψετε τα θέματα στο τετράδιο.**
2. Να γράψετε το ονοματεπώνυμό σας στο πάνω μέρος των φωτοαντιγράφων, αμέσως μόλις σας παραδοθούν. **Δεν επιτρέπεται να γράψετε καμιά άλλη σημείωση.** Κατά την αποχώρησή σας να παραδώσετε μαζί με το τετράδιο και τα φωτοαντίγραφα.
3. Να απαντήσετε **στο τετράδιό σας** σε όλα τα θέματα, **μόνο με μπλε ή μόνο με μαύρο στυλό ανεξίτηλης μελάνης.**
4. Κάθε επιστημονικά τεκμηριωμένη απάντηση είναι αποδεκτή.
5. Διάρκεια εξέτασης: τρεις (3) ώρες μετά τη διανομή των φωτοαντιγράφων.
6. Ώρα δυνατής αποχώρησης: **10.00 π.μ.**

ΚΑΛΗ ΕΠΙΤΥΧΙΑ

ΤΕΛΟΣ ΜΗΝΥΜΑΤΟΣ

ΤΕΛΟΣ 4ΗΣ ΑΠΟ 4 ΣΕΛΙΔΕΣ

ΑΡΧΗ 1ΗΣ ΣΕΛΙΔΑΣ**ΕΠΑΝΑΛΗΠΤΙΚΕΣ ΠΑΝΕΛΛΑΔΙΚΕΣ ΕΞΕΤΑΣΕΙΣ
ΗΜΕΡΗΣΙΩΝ ΚΑΙ ΕΣΠΕΡΙΝΩΝ ΕΠΑΓΓΕΛΜΑΤΙΚΩΝ
ΛΥΚΕΙΩΝ****ΠΑΡΑΣΚΕΥΗ 20 ΣΕΠΤΕΜΒΡΙΟΥ 2019****ΕΞΕΤΑΖΟΜΕΝΟ ΜΑΘΗΜΑ:
ΜΑΘΗΜΑΤΙΚΑ (ΑΛΓΕΒΡΑ)****ΣΥΝΟΛΟ ΣΕΛΙΔΩΝ: ΤΕΣΣΕΡΙΣ (4)****ΘΕΜΑ Α**

A1. Να αποδείξετε ότι η παράγωγος της σταθερής συνάρτησης $f(x)=c$, όπου $x, c \in \mathbb{R}$ και c σταθερά, είναι ίση με 0, δηλαδή $f'(x)=(c)'=0$.

Μονάδες 7

A2. Αν x_1, x_2, \dots, x_n είναι οι παρατηρήσεις μιας ποσοτικής μεταβλητής X ενός δείγματος μεγέθους n και w_1, w_2, \dots, w_n είναι οι αντίστοιχοι συντελεστές στάθμισης (βαρύτητας), να γράψετε τον τύπο με τον οποίο υπολογίζεται ο σταθμικός μέσος \bar{x} της μεταβλητής X .

Μονάδες 4

A3. Πότε μια συνάρτηση f λέγεται παραγωγίσιμη σε ένα σημείο x_0 του πεδίου ορισμού της;

Μονάδες 4

A4. Να χαρακτηρίσετε τις προτάσεις που ακολουθούν, γράφοντας στο τετράδιό σας, δίπλα στο γράμμα που αντιστοιχεί σε κάθε πρόταση, τη λέξη **Σωστό**, αν η πρόταση είναι σωστή, ή τη λέξη **Λάθος**, αν η πρόταση είναι λανθασμένη.

α. Ένα τοπικό ελάχιστο μιας συνάρτησης f με πεδίο ορισμού A , μπορεί να είναι μεγαλύτερο από ένα τοπικό μέγιστό της.

β. Στο ιστόγραμμα σχετικών συχνοτήτων ομαδοποιημένων δεδομένων, το εμβαδόν του χωρίου που ορίζεται από το πολύγωνο σχετικών συχνοτήτων και τον οριζόντιο άξονα είναι ίσο με το μέγεθος του δείγματος n .

ΤΕΛΟΣ 1ΗΣ ΑΠΟ 4 ΣΕΛΙΔΕΣ

ΑΡΧΗ 2ΗΣ ΣΕΛΙΔΑΣ

γ. Αν οι συναρτήσεις $f, g : \mathbb{R} \rightarrow \mathbb{R}$ είναι παραγωγίσιμες στο πεδίο ορισμού τους, με $g(x) \neq 0$ για όλες τις τιμές του x , τότε ισχύει:

$$\left(\frac{f(x)}{g(x)} \right)' = \frac{f'(x) \cdot g(x) - f(x) \cdot g'(x)}{g(x)^2}$$

- δ. Ο συντελεστής μεταβολής CV ενός δείγματος είναι ανεξάρτητος από τις μονάδες μέτρησης των τιμών του δείγματος.
- ε. Το διάγραμμα συχνοτήτων χρησιμοποιείται για τη γραφική παράσταση των τιμών μιας ποιοτικής μεταβλητής.

Μονάδες 10**ΘΕΜΑ Β**

Δίνονται οι τιμές 10 διαφορετικών προϊόντων ενός καταστήματος:

13, 12, $\lambda+5$, 9, 14, 15, κ , 12, 17, 13

όπου: $\lambda = \lim_{x \rightarrow 3} \frac{x^2 - 9}{x^2 - 3x}$

B1. Να δείξετε ότι $\lambda=2$.

Μονάδες 6

B2. Για $\lambda=2$ να υπολογίσετε την τιμή του κ , αν η μέση τιμή (\bar{x}) των προϊόντων είναι 12.

Μονάδες 6

B3. Για $\lambda=2$ και $\kappa=8$ να δείξετε ότι η τυπική απόκλιση (s) των τιμών των προϊόντων είναι 3.

Μονάδες 7

B4. Για $\lambda=2$ και $\kappa=8$ να εξετάσετε αν το δείγμα των τιμών των προϊόντων είναι ομοιογενές.

Μονάδες 6ΤΕΛΟΣ 2ΗΣ ΑΠΟ 4 ΣΕΛΙΔΕΣ

ΑΡΧΗ 3ΗΣ ΣΕΛΙΔΑΣ**ΘΕΜΑ Γ**

Δίνεται η συνάρτηση $f: \mathbb{R} \rightarrow \mathbb{R}$ με τύπο:

$$f(x) = x^3 - 2x^2 - ax + 2 ,$$

όπου $a \in \mathbb{R}$ σταθερά.

Γ1. Να βρείτε την τιμή του a ώστε η εφαπτομένη της γραφικής παράστασης της συνάρτησης f στο σημείο της $A(0, f(0))$ να σχηματίζει με τον άξονα $x'x$ γωνία 45° .

Μονάδες 6

Γ2. Για $a = -1$ να μελετήσετε τη συνάρτηση f ως προς τη μονοτονία.

Μονάδες 8

Γ3. Για $a = -1$ να βρείτε το είδος και την τιμή των τοπικών ακροτάτων της συνάρτησης f .

Μονάδες 6

Γ4. Για $a = -1$ να δείξετε ότι:

$$f(2019) + f(2020) > 2 \cdot f(1)$$

Μονάδες 5

ΘΕΜΑ Δ

Δίνεται η συνάρτηση $f: \mathbb{R} \rightarrow \mathbb{R}$ με τύπο:

$$f(x) = (\lambda - 3)x^2 - \lambda x + \lambda^2 - 6\lambda ,$$

όπου για τη σταθερά λ ισχύει $0 < \lambda < 3$.

Δ1. Να δείξετε ότι η εφαπτομένη της γραφικής παράστασης της συνάρτησης f στο σημείο της $A(0, f(0))$ είναι $y = -\lambda x + \lambda^2 - 6\lambda$

Μονάδες 7

Δ2. Να δείξετε ότι η εφαπτομένη της γραφικής παράστασης της συνάρτησης f στο σημείο της $A(0, f(0))$ σχηματίζει με τους άξονες $x'x$ και $y'y$ τρίγωνο εμβαδού

$$E(\lambda) = \frac{1}{2} \cdot \lambda \cdot (\lambda - 6)^2$$

Μονάδες 7

ΑΡΧΗ 4ΗΣ ΣΕΛΙΔΑΣ

Δ3. Να βρεθεί η τιμή του λ ώστε το εμβαδόν του παραπάνω τριγώνου να γίνει μέγιστο.

Μονάδες 6

Δ4. Για $\lambda = 2$ δίνονται τα σημεία $A_1(x_1, y_1)$, $A_2(x_2, y_2)$, $A_3(x_3, y_3)$, $A_4(x_4, y_4)$, $A_5(x_5, y_5)$ της εφαπτομένης της γραφικής παράστασης της συνάρτησης f στο σημείο της $A(0, f(0))$. Αν οι τετμημένες x_1, x_2, x_3, x_4, x_5 των σημείων A_1, A_2, A_3, A_4, A_5 αντίστοιχα, έχουν τυπική απόκλιση $s_x = 2$, να βρείτε την τυπική απόκλιση s_y των τεταγμένων y_1, y_2, y_3, y_4, y_5 των σημείων αυτών.

Μονάδες 5

ΟΔΗΓΙΕΣ ΓΙΑ ΤΟΥΣ ΕΞΕΤΑΖΟΜΕΝΟΥΣ

1. Στο τετράδιο να γράψετε μόνον τα προκαταρκτικά (ημερομηνία, εξεταζόμενο μάθημα). **Να μην αντιγράψετε** τα θέματα στο τετράδιο.
2. Να γράψετε το ονοματεπώνυμό σας στο πάνω μέρος των φωτοαντιγράφων, αμέσως μόλις σας παραδοθούν. **Δεν επιτρέπεται να γράψετε** καμία άλλη σημείωση. Κατά την αποχώρησή σας να παραδώσετε μαζί με το τετράδιο και τα φωτοαντίγραφα.
3. Να απαντήσετε **στο τετράδιό σας** σε όλα τα θέματα, **μόνον με μπλε ή μόνον με μαύρο στυλό ανεξίτηλου μελανιού**.
4. Κάθε επιστημονικά τεκμηριωμένη απάντηση είναι αποδεκτή.
5. Διάρκεια εξέτασης: τρεις (3) ώρες μετά τη διανομή των φωτοαντιγράφων.
6. Ώρα δυνατής αποχώρησης: **17:00**.

ΚΑΛΗ ΕΠΙΤΥΧΙΑ

ΤΕΛΟΣ ΜΗΝΥΜΑΤΟΣ

ΤΕΛΟΣ 4ΗΣ ΑΠΟ 4 ΣΕΛΙΔΕΣ

ΑΡΧΗ 1ΗΣ ΣΕΛΙΔΑΣ**ΠΑΝΕΛΛΑΔΙΚΕΣ ΕΞΕΤΑΣΕΙΣ
ΗΜΕΡΗΣΙΩΝ - ΕΣΠΕΡΙΝΩΝ ΕΠΑΓΓΕΛΜΑΤΙΚΩΝ ΛΥΚΕΙΩΝ
ΠΕΜΠΤΗ 18 ΙΟΥΝΙΟΥ 2020****ΕΞΕΤΑΖΟΜΕΝΟ ΜΑΘΗΜΑ:
ΜΑΘΗΜΑΤΙΚΑ (ΑΛΓΕΒΡΑ)****ΣΥΝΟΛΟ ΣΕΛΙΔΩΝ: ΤΕΣΣΕΡΙΣ (4)****ΘΕΜΑ Α**

A1. Πότε μια συνάρτηση f με πεδίο ορισμού A λέγεται συνεχής;

Μονάδες 4

A2. Να χαρακτηρίσετε τις προτάσεις που ακολουθούν, γράφοντας στο τετράδιό σας, δίπλα στο γράμμα που αντιστοιχεί σε κάθε πρόταση, τη λέξη **Σωστό**, αν η πρόταση είναι σωστή, ή τη λέξη **Λάθος**, αν η πρόταση είναι λανθασμένη.

α. Η συνάρτηση $f(x) = |x|$ έχει παράγωγο στο σημείο $x_0 = 0$.

β. Τα χαρακτηριστικά ως προς τα οποία εξετάζουμε έναν πληθυσμό λέγονται μεταβλητές και τις συμβολίζουμε συνήθως με κεφαλαία γράμματα.

γ. Η σχετική συχνότητα f_i της τιμής x_i δίνεται από τον τύπο $f_i = \frac{v_i}{n}$, όπου v_i η συχνότητα της τιμής x_i και n το μέγεθος του δείγματος.

Μονάδες 6

A3. Να μεταφέρετε στο τετράδιό σας τις παρακάτω ισότητες και να τις συμπληρώσετε.

α. $(f(x) \cdot g(x))' = \dots$

β. $(\sqrt{x})' = \dots$, με $x > 0$

γ. $(\sin x)' = \dots$

Μονάδες 9ΤΕΛΟΣ 1ΗΣ ΑΠΟ 4 ΣΕΛΙΔΕΣ

ΑΡΧΗ 2ΗΣ ΣΕΛΙΔΑΣ

A4. Να αποδείξετε ότι η παράγωγος της συνάρτησης $f(x)=x^2$ είναι $f'(x)=(x^2)'=2x$, για κάθε x στο σύνολο \mathbb{R} των πραγματικών αριθμών.

Μονάδες 6

ΘΕΜΑ Β

Στον παρακάτω πίνακα δίνεται ο αριθμός των βιβλίων που διάβασαν οι μαθητές ενός σχολείου κατά τη διάρκεια των καλοκαιρινών διακοπών:

x_i	n_i	$f_i \%$	N_i	$F_i \%$
0				
1				70
2	10			90
3		10		100
Σύνολο		100		

Δίνεται ότι το 40% των μαθητών δεν διάβασαν κανένα βιβλίο.

B1. Να μεταφέρετε τον παραπάνω πίνακα στο τετράδιό σας και να συμπληρώσετε τα κενά.

Μονάδες 12

B2. Ποιο είναι το ποσοστό των μαθητών που έχουν διαβάσει τρία βιβλία;

Μονάδες 3

B3. Πόσοι μαθητές διάβασαν τουλάχιστον ένα βιβλίο;

Μονάδες 5

B4. Ποιο είναι το ποσοστό των μαθητών που διάβασαν το πολύ δύο βιβλία;

Μονάδες 5

ΑΡΧΗ 3ΗΣ ΣΕΛΙΔΑΣ**ΘΕΜΑ Γ**

Δίνεται η συνάρτηση $f: \mathbb{R} \rightarrow \mathbb{R}$ με τύπο $f(x) = x^3 - \lambda x^2 + 2$, όπου $\lambda \in \mathbb{R}$ σταθερά.

Γ1. Να βρείτε την τιμή του λ , ώστε η γραφική παράσταση της συνάρτησης f να διέρχεται από το σημείο $A(-1, -2)$.

Μονάδες 4

Γ2. Για $\lambda = 3$ να βρείτε τις συναρτήσεις $f'(x)$ και $f''(x)$.

Μονάδες 6

Γ3. Για $\lambda = 3$ να μελετήσετε τη συνάρτηση f ως προς τη μονοτονία και να βρείτε το είδος και την τιμή των τοπικών ακροτάτων της.

Μονάδες 8

Γ4. Για $\lambda = 3$ να υπολογίσετε το όριο

$$\lim_{x \rightarrow 1} \frac{f'(x) + 3}{f''(x)}.$$

Μονάδες 7

ΘΕΜΑ Δ

Δίνεται η συνάρτηση $f: \mathbb{R} \rightarrow \mathbb{R}$ με τύπο

$$f(x) = (x^2 + 4x + 5)^{20}.$$

Δ1. Να δείξετε ότι

$$f'(x) = 40(x^2 + 4x + 5)^{19} \cdot (x + 2).$$

Μονάδες 5

Δ2. Να βρείτε το όριο:

$$\lim_{h \rightarrow 0} \frac{f(-2+h) - f(-2)}{h}.$$

Μονάδες 4

ΑΡΧΗ 4ΗΣ ΣΕΛΙΔΑΣ

Δ3. Να δείξετε ότι η εφαπτομένη της γραφικής παράστασης της f , η οποία είναι παράλληλη στον άξονα $x'x$, έχει εξίσωση $y=1$.

Μονάδες 8

Δ4. Θεωρούμε σημείο $A(x,1)$ της ευθείας $y=1$ με $x>0$. Να βρεθεί ο ρυθμός μεταβολής της απόστασης των σημείων $A(x,1)$ και $O(0,0)$ ως προς x , όταν $x=1$.

Μονάδες 8

ΟΔΗΓΙΕΣ ΓΙΑ ΤΟΥΣ ΕΞΕΤΑΖΟΜΕΝΟΥΣ

1. Στο τετράδιο να γράψετε **μόνον** τα προκαταρκτικά (ημερομηνία, εξεταζόμενο μάθημα). **Να μην αντιγράψετε** τα θέματα στο τετράδιο.
2. Να γράψετε το ονοματεπώνυμό σας στο πάνω μέρος των φωτοαντιγράφων, αμέσως μόλις σας παραδοθούν. **Δεν επιτρέπεται να γράψετε** καμιά άλλη σημείωση. Κατά την αποχώρησή σας να παραδώσετε μαζί με το τετράδιο και τα φωτοαντίγραφα.
3. Να απαντήσετε **στο τετράδιό σας** σε όλα τα θέματα, **μόνο με μπλε ή μόνο με μαύρο στυλό ανεξίτηλης μελάνης**.
4. Κάθε επιστημονικά τεκμηριωμένη απάντηση είναι αποδεκτή.
5. Διάρκεια εξέτασης: τρεις (3) ώρες μετά τη διανομή των φωτοαντιγράφων.
6. Ώρα δυνατής αποχώρησης: **10.00 π.μ.**

ΚΑΛΗ ΕΠΙΤΥΧΙΑ

ΤΕΛΟΣ ΜΗΝΥΜΑΤΟΣ

ΑΡΧΗ 1ΗΣ ΣΕΛΙΔΑΣ
ΕΠΑΝΑΛΗΠΤΙΚΕΣ ΠΑΝΕΛΛΑΔΙΚΕΣ ΕΞΕΤΑΣΕΙΣ
ΗΜΕΡΗΣΙΩΝ ΚΑΙ ΕΣΠΕΡΙΝΩΝ ΕΠΑΓΓΕΛΜΑΤΙΚΩΝ
ΛΥΚΕΙΩΝ
ΠΑΡΑΣΚΕΥΗ 25 ΣΕΠΤΕΜΒΡΙΟΥ 2020

ΕΞΕΤΑΖΟΜΕΝΟ ΜΑΘΗΜΑ:
ΜΑΘΗΜΑΤΙΚΑ (ΑΛΓΕΒΡΑ)

ΣΥΝΟΛΟ ΣΕΛΙΔΩΝ: ΤΕΣΣΕΡΙΣ (4)

ΘΕΜΑ Α

A1. Έστω x_1, x_2, \dots, x_k οι τιμές μίας μεταβλητής X ενός δείγματος μεγέθους n , όπου k, n μη μηδενικοί φυσικοί αριθμοί με $k \leq n$. Για τη σχετική συχνότητα f_i της τιμής x_i , $i = 1, 2, \dots, k$ να αποδείξετε ότι:

$$f_1 + f_2 + \dots + f_k = 1$$

Μονάδες 5

A2. Έστω μία συνάρτηση f με πεδίο ορισμού A , και B το σύνολο των $x \in A$ στα οποία η f είναι παραγωγίσιμη. Πώς ορίζεται η (πρώτη) παράγωγος της f ;

Μονάδες 5

A3. Να χαρακτηρίσετε τις προτάσεις που ακολουθούν, γράφοντας στο τετράδιό σας, δίπλα στο γράμμα που αντιστοιχεί σε κάθε πρόταση, τη λέξη **Σωστό**, αν η πρόταση είναι σωστή, ή τη λέξη **Λάθος**, αν η πρόταση είναι λανθασμένη.

α. Αν η συνάρτηση v της ταχύτητας ενός κινητού είναι παραγωγίσιμη, τότε η επιτάχυνση a του κινητού τη χρονική στιγμή t είναι η παράγωγος της ταχύτητας.

β. Αν δύο συναρτήσεις f, g ορίζονται και οι δύο σε ένα σύνολο A , τότε ορίζεται και η συνάρτηση $R = \frac{f}{g}$ με

$$R(x) = \frac{f(x)}{g(x)}, \text{ όπου } x \in A \text{ και } g(x) \neq 0.$$

ΤΕΛΟΣ 1ΗΣ ΑΠΟ 4 ΣΕΛΙΔΕΣ

ΑΡΧΗ 2ΗΣ ΣΕΛΙΔΑΣ

γ. Αν x_1, x_2 είναι τιμές μίας ποσοτικής μεταβλητής X , με αντίστοιχες συχνότητες v_1, v_2 , τότε για τις αθροιστικές συχνότητες N_1, N_2 ισχύει $v_2 = N_2 + N_1$, όπου $N_1 = v_1$.

Μονάδες 6

A4. Να μεταφέρετε στο τετράδιό σας τις παρακάτω ισότητες και να τις συμπληρώσετε.

α. $(\eta\mu x)' = \dots$

β. $(x^\rho)' = \dots$, όπου ρ ρητός αριθμός.

γ. $\left(\frac{f(x)}{g(x)}\right)' = \dots$, όπου $f, g: \mathbb{R} \rightarrow \mathbb{R}$ είναι συναρτήσεις

παραγωγίσιμες στο πεδίο ορισμού τους, με $g(x) \neq 0$ για κάθε $x \in \mathbb{R}$.

Μονάδες 9

ΘΕΜΑ Β

Στον παρακάτω πίνακα φαίνεται ο χρόνος σε ώρες που αφιερώνουν 20 μαθητές σε αθλητικές δραστηριότητες κατά τη διάρκεια μίας ημέρας.

x_i	v_i	$f_i\%$	N_i
0	1		
1	κ^2		
2	8		
3	$\kappa - 1$		
Σύνολο	20	100	

B1. Να αποδείξετε ότι $\kappa=3$.

Μονάδες 7

B2. Για $\kappa=3$ να μεταφέρετε τον παραπάνω πίνακα στο τετράδιό σας και να τον συμπληρώσετε με αριθμητικές τιμές.

Μονάδες 10

B3. Πόσοι από τους παραπάνω μαθητές αφιερώνουν χρόνο σε αθλητικές δραστηριότητες κατά τη διάρκεια μίας ημέρας;

Μονάδες 3

B4. Ποιο είναι το ποσοστό των μαθητών που αφιερώνουν τουλάχιστον 2 ώρες σε αθλητικές δραστηριότητες;

Μονάδες 5

ΘΕΜΑ Γ

Δίνεται η συνάρτηση $f(x) = \frac{1-x}{1+x}$, $x \neq -1$.

Γ1. Να μελετήσετε τη συνάρτηση f ως προς τη μονοτονία για $x < -1$.

Μονάδες 7

Γ2. Αν $x \in [-4, -2]$, να αποδείξετε ότι $-3 \leq f(x) \leq -\frac{5}{3}$.

Μονάδες 6

Γ3. Να βρεθεί η εξίσωση της εφαπτομένης της γραφικής παράστασης της f στο σημείο $A(0, f(0))$.

Μονάδες 6

Γ4. Η εφαπτομένη της γραφικής παράστασης της f στο σημείο $A(0, f(0))$ τέμνει τους άξονες $x'x$ και $y'y$ στα σημεία K και L αντίστοιχα. Να βρεθεί το εμβαδόν του τριγώνου OKL , όπου $O(0,0)$ είναι η αρχή των αξόνων.

Μονάδες 6

ΘΕΜΑ Δ

Δίνεται η συνάρτηση $f: \mathbb{R} \rightarrow \mathbb{R}$ με τύπο:

$$f(x) = x^3 - 6x^2 + 9x - a^2 - 8a, \quad a \in \mathbb{R}$$

Δ1. Να μελετήσετε τη συνάρτηση f ως προς τη μονοτονία της.

Μονάδες 8

ΑΡΧΗ 4ΗΣ ΣΕΛΙΔΑΣ

Δ2. Να βρείτε τα τοπικά ακρότατα της συνάρτησης f ως συνάρτηση του a .

Μονάδες 4

Δ3. Να βρείτε για ποια τιμή του a το τοπικό ελάχιστο της f παίρνει τη μέγιστη τιμή του.

Μονάδες 8

Δ4. Για $a = -4$ να υπολογίσετε το όριο

$$\lim_{x \rightarrow 3} \frac{f(x) - 16}{f'(x)} .$$

Μονάδες 5

ΟΔΗΓΙΕΣ ΓΙΑ ΤΟΥΣ ΕΞΕΤΑΖΟΜΕΝΟΥΣ

1. Στο τετράδιό σας να γράψετε μόνο τα προκαταρκτικά (ημερομηνία, εξεταζόμενο μάθημα). Να μην αντιγράψετε τα θέματα στο τετράδιο.
2. Να γράψετε το ονοματεπώνυμό σας στο πάνω μέρος των φωτοαντιγράφων, αμέσως μόλις σας παραδοθούν. Δεν επιτρέπεται να γράψετε καμιά άλλη σημείωση. Κατά την αποχώρησή σας να παραδώσετε μαζί με το τετράδιο και τα φωτοαντίγραφα.
3. Να απαντήσετε στο τετράδιό σας σε όλα τα θέματα, **μόνο με μπλε ή μόνο με μαύρο στυλό ανεξίτηλης μελάνης**.
4. Κάθε τεκμηριωμένη απάντηση είναι αποδεκτή.
5. Διάρκεια εξέτασης: τρεις (3) ώρες μετά τη διανομή των φωτοαντιγράφων.
6. Ώρα δυνατής αποχώρησης: **17:00**

ΚΑΛΗ ΕΠΙΤΥΧΙΑ

ΤΕΛΟΣ ΜΗΝΥΜΑΤΟΣ

ΤΕΛΟΣ 4ΗΣ ΑΠΟ 4 ΣΕΛΙΔΕΣ

**ΠΑΝΕΛΛΑΔΙΚΕΣ ΕΞΕΤΑΣΕΙΣ
ΗΜΕΡΗΣΙΩΝ - ΕΣΠΕΡΙΝΩΝ ΕΠΑΓΓΕΛΜΑΤΙΚΩΝ ΛΥΚΕΙΩΝ
ΠΕΜΠΤΗ 17 ΙΟΥΝΙΟΥ 2021**

**ΕΞΕΤΑΖΟΜΕΝΟ ΜΑΘΗΜΑ:
ΜΑΘΗΜΑΤΙΚΑ (ΑΛΓΕΒΡΑ)**

ΣΥΝΟΛΟ ΣΕΛΙΔΩΝ: ΠΕΝΤΕ (5)

ΘΕΜΑ Α

A1. Έστω x_1, x_2, \dots, x_k οι τιμές μίας μεταβλητής X ενός δείγματος μεγέθους n , όπου k, n μη μηδενικοί φυσικοί αριθμοί με $k \leq n$.

Τι ονομάζεται (απόλυτη) συχνότητα n_i που αντιστοιχεί στην τιμή x_i , όπου $i = 1, 2, \dots, k$;

Μονάδες 4

A2. Να αποδείξετε ότι η παράγωγος της σταθερής συνάρτησης $f(x) = c$, όπου $x, c \in \mathbb{R}$ και c σταθερά, είναι ίση με το μηδέν, δηλαδή $f'(x) = (c)' = 0$.

Μονάδες 6

A3. Να χαρακτηρίσετε τις προτάσεις που ακολουθούν, γράφοντας στο τετράδιό σας, δίπλα στο γράμμα που αντιστοιχεί σε κάθε πρόταση, τη λέξη **Σωστό**, αν η πρόταση είναι σωστή, ή τη λέξη **Λάθος**, αν η πρόταση είναι λανθασμένη.

α. Οι διακριτές μεταβλητές μπορούν να πάρουν οποιαδήποτε τιμή ενός διαστήματος πραγματικών αριθμών (α, β) .

β. Το ραβδόγραμμα χρησιμοποιείται για τη γραφική παράσταση των τιμών μίας ποιοτικής μεταβλητής.

γ. Μία συνάρτηση f λέγεται γνησίως αύξουσα σε ένα διάστημα Δ του πεδίου ορισμού της, όταν για οποιαδήποτε σημεία $x_1, x_2 \in \Delta$ με $x_1 < x_2$ ισχύει $f(x_1) > f(x_2)$.

Μονάδες 6

ΑΡΧΗ 2ΗΣ ΣΕΛΙΔΑΣ

A4. Να μεταφέρετε στο τετράδιό σας τις παρακάτω ισότητες και να τις συμπληρώσετε:

α. $\left(\frac{1}{x}\right)' = \dots\dots\dots$, με $x \neq 0$.

β. $(x^v)'$ =....., όπου v φυσικός αριθμός.

γ. $(c \cdot f(x))'$ =....., όπου $c \in \mathbb{R}$ και $f: \mathbb{R} \rightarrow \mathbb{R}$ συνάρτηση παραγωγίσιμη στο πεδίο ορισμού της.

Μονάδες 9

ΘΕΜΑ Β

Δίνεται η συνάρτηση $f(x) = x^2 - ax + 2$, όπου $a \in \mathbb{R}$ σταθερά και $x \in \mathbb{R}$.

B1. Αν η γραφική παράσταση της f τέμνει τον άξονα $x'x$ σε σημείο με τετμημένη ίση με 1, να βρείτε την τιμή του a .

Μονάδες 5

B2. Για $a = 3$, να βρείτε το πεδίο ορισμού της συνάρτησης

$$g(x) = \frac{f(x)}{x^2 - 1}$$

Μονάδες 5

B3. Για $a = 3$, να υπολογίσετε το όριο $\lim_{x \rightarrow 1} g(x)$.

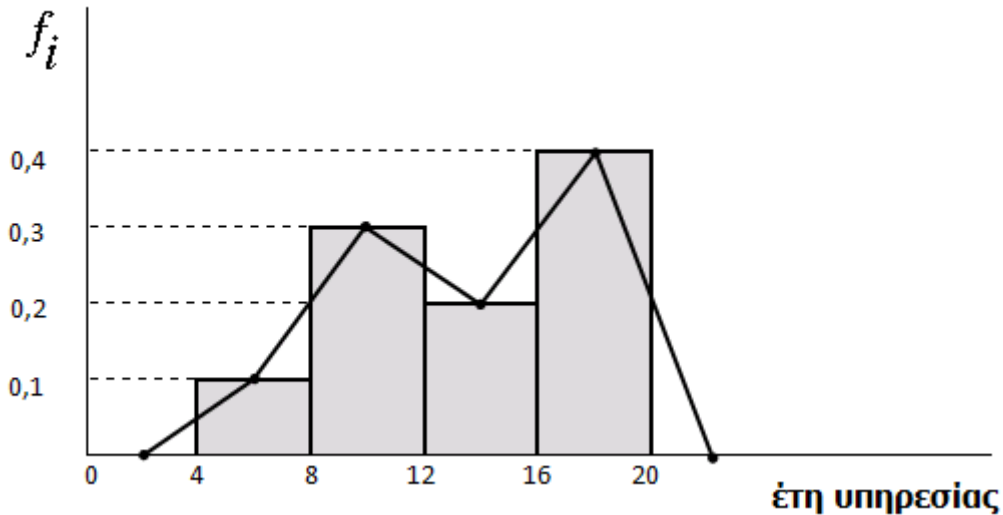
Μονάδες 7

B4. Για $a = 3$, να βρείτε την εξίσωση της εφαπτομένης της γραφικής παράστασης της f στο σημείο $M(0, f(0))$.

Μονάδες 8

ΘΕΜΑ Γ

Δίνεται το παρακάτω ιστόγραμμα και το πολύγωνο των σχετικών συχνοτήτων f_i που αφορούν τα έτη υπηρεσίας 50 εκπαιδευτικών.



Γ1. Να μεταφέρετε στο τετράδιό σας τον πίνακα που ακολουθεί και να τον συμπληρώσετε με βάση το παραπάνω ιστόγραμμα,

Έτη υπηρεσίας [,)	Κεντρική τιμή x_i	Συχνότητα v_i	Σχετική συχνότητα f_i	a_i
[4,8)		5		36°
[8,12)				
[12,16)	14			
[16,20)		20		144°
Σύνολο		50		360°

όπου a_i το αντίστοιχο τόξο ενός κυκλικού τμήματος στο κυκλικό διάγραμμα συχνοτήτων.

Μονάδες 12

Γ2. Πόσοι εκπαιδευτικοί έχουν συμπληρώσει τουλάχιστον 8 έτη υπηρεσίας;

Μονάδες 5

Γ3. Να βρείτε το ποσοστό των εκπαιδευτικών που έχουν συμπληρώσει υπηρεσία λιγότερη από 16 έτη.

Μονάδες 5

Γ4. Πόσο είναι το εμβαδόν του χωρίου που ορίζεται από το πολύγωνο των σχετικών συχνοτήτων και τον οριζόντιο άξονα;

Μονάδες 3

ΘΕΜΑ Δ

Ένα οικόπεδο σχήματος ορθογωνίου έχει μήκος x μέτρα (m), πλάτος y μέτρα (m) και περίμετρο 80m.

Δ1. Να αποδείξετε ότι το εμβαδόν του οικοπέδου ως συνάρτηση του x , δίνεται από τον τύπο $E(x) = -x^2 + 40x$ και να βρείτε το πεδίο ορισμού της συνάρτησης $E(x)$.

Μονάδες 10

Δ2. Να μελετήσετε τη συνάρτηση $E(x)$ ως προς τη μονοτονία της.

Μονάδες 6

Δ3. Για ποια τιμή του x το εμβαδόν του οικοπέδου γίνεται μέγιστο και ποια είναι η μέγιστη τιμή του;

Μονάδες 4

Δ4. Δύο οικόπεδα Α και Β σχήματος ορθογωνίου με περίμετρο 80m το καθένα έχουν μήκη $x_A = 29,5\text{m}$ και $x_B = 34,2\text{m}$, αντίστοιχα. Να απαντήσετε αιτιολογημένα ποιο από τα δύο οικόπεδα έχει το μεγαλύτερο εμβαδόν.

Μονάδες 5

ΟΔΗΓΙΕΣ ΓΙΑ ΤΟΥΣ ΕΞΕΤΑΖΟΜΕΝΟΥΣ

1. Στο τετράδιο να γράψετε μόνο τα προκαταρκτικά (ημερομηνία, εξεταζόμενο μάθημα). **Να μην αντιγράψετε** τα θέματα στο τετράδιο.
2. Να γράψετε το ονοματεπώνυμό σας στο πάνω μέρος των φωτοαντιγράφων, αμέσως μόλις σας παραδοθούν. **Δεν επιτρέπεται να γράψετε** καμιά άλλη σημείωση. Κατά την αποχώρησή σας να παραδώσετε μαζί με το τετράδιο και τα φωτοαντίγραφα.
3. Να απαντήσετε **στο τετράδιό σας** σε όλα τα θέματα, **μόνο με μπλε ή μόνο με μαύρο στυλό ανεξίτηλης μελάνης**.
4. Κάθε τεκμηριωμένη απάντηση είναι αποδεκτή.
5. Διάρκεια εξέτασης: τρεις (3) ώρες μετά τη διανομή των φωτοαντιγράφων.
6. Ώρα δυνατής αποχώρησης: **10.00 π.μ.**

ΚΑΛΗ ΕΠΙΤΥΧΙΑ

ΤΕΛΟΣ ΜΗΝΥΜΑΤΟΣ

ΑΡΧΗ 1ΗΣ ΣΕΛΙΔΑΣ
ΕΠΑΝΑΛΗΠΤΙΚΕΣ ΠΑΝΕΛΛΑΔΙΚΕΣ ΕΞΕΤΑΣΕΙΣ
ΗΜΕΡΗΣΙΩΝ ΚΑΙ ΕΣΠΕΡΙΝΩΝ ΕΠΑΓΓΕΛΜΑΤΙΚΩΝ
ΛΥΚΕΙΩΝ

ΠΕΜΠΤΗ 23 ΣΕΠΤΕΜΒΡΙΟΥ 2021

ΕΞΕΤΑΖΟΜΕΝΟ ΜΑΘΗΜΑ:
ΜΑΘΗΜΑΤΙΚΑ (ΑΛΓΕΒΡΑ)

ΣΥΝΟΛΟ ΣΕΛΙΔΩΝ: ΠΕΝΤΕ (5)

ΘΕΜΑ Α

A1. Να αποδείξετε ότι η παράγωγος της ταυτοτικής συνάρτησης $f(x) = x$ είναι $f'(x) = 1$, για κάθε x στο σύνολο \mathbb{R} των πραγματικών αριθμών.

Μονάδες 7

A2. Έστω x_1, x_2, \dots, x_k οι τιμές μίας μεταβλητής X ενός δείγματος μεγέθους n , όπου k, n φυσικοί αριθμοί με $k \leq n$.

α. Πώς ορίζεται η σχετική συχνότητα f_i της τιμής x_i για $i=1, 2, \dots, k$;

Μονάδες 4

β. Να αιτιολογήσετε γιατί ισχύει $0 \leq f_i \leq 1$ για $i=1, 2, \dots, k$.

Μονάδες 4

A3. Να χαρακτηρίσετε τις προτάσεις που ακολουθούν, γράφοντας στο τετράδιό σας, δίπλα στο γράμμα που αντιστοιχεί σε κάθε πρόταση, τη λέξη **Σωστό**, αν η πρόταση είναι σωστή, ή τη λέξη **Λάθος**, αν η πρόταση είναι λανθασμένη.

α. Ισχύει ότι $(f(x) \cdot g(x))' = f'(x) \cdot g'(x)$.

ΤΕΛΟΣ 1ΗΣ ΑΠΟ 5 ΣΕΛΙΔΕΣ

ΑΡΧΗ 2ΗΣ ΣΕΛΙΔΑΣ

- β. Η παράγωγος της f στο x_0 εκφράζει τον ρυθμό μεταβολής του $y = f(x)$ ως προς το x , όταν $x = x_0$.
- γ. Ισχύει ότι $(\sin x)' = \eta\mu x$.
- δ. Οι ποιοτικές ή κατηγορικές μεταβλητές διακρίνονται σε διακριτές και συνεχείς.
- ε. Πλάτος μίας κλάσης ονομάζεται η διαφορά του κατώτερου από το ανώτερο όριο της κλάσης.

Μονάδες 10

ΘΕΜΑ Β

Δίνεται η συνάρτηση $f(x) = 2x^2 - \alpha x + 6$ με $\alpha, x \in \mathbb{R}$ για την οποία ισχύει $f'(4) = 12$.

- B1.** Να βρείτε την $f'(x)$ (μον. 3) και να υπολογίσετε την τιμή του α (μον. 3).

Μονάδες 6

- B2.** Για $\alpha=4$ να μελετήσετε τη συνάρτηση f ως προς τη μονοτονία της (μον. 5) και να βρείτε τα ακρότατά της (μον. 3).

Μονάδες 8

- B3.** Για $\alpha=4$ να δείξετε ότι $f(x) \geq 4$ για κάθε $x \in \mathbb{R}$.

Μονάδες 4

- B4.** Για $\alpha=4$ να βρείτε την εξίσωση της εφαπτομένης της γραφικής παράστασης της f στο σημείο $A(-1, f(-1))$.

Μονάδες 7

ΘΕΜΑ Γ

Οι χρόνοι (σε λεπτά) που χρειάστηκαν 50 μαθητές/μαθήτριες ενός ΕΠΑ.Λ, για να μεταβούν από το σπίτι στο σχολείο τους, έχουν ομαδοποιηθεί σε 4 κλάσεις ίσου πλάτους c , όπου

$$\frac{2}{c} = \lim_{x \rightarrow 4} \frac{\sqrt{x} - 2}{x - 4}$$

όπως φαίνεται στον παρακάτω πίνακα:

Χρόνος σε λεπτά	Συχνότητα v_i	Σχετική Συχνότητα $f_i\%$	Αθροιστική Συχνότητα N_i
[14, ...)	15	30	15
[..., ...)	20	40	...
[..., ...)
[..., ...)	5	...	50
Σύνολο	50	100	

Γ1. Να υπολογίσετε την τιμή του πλάτους c .

Μονάδες 8

Γ2. Για $c=8$ να μεταφέρετε τον παραπάνω πίνακα στο τετράδιό σας και να τον συμπληρώσετε.

Μονάδες 12

Γ3. Για $c=8$ να βρείτε το ποσοστό των μαθητών/μαθητριών που χρειάστηκαν τουλάχιστον μισή ώρα για να μεταβούν στο σχολείο τους.

Μονάδες 5

ΘΕΜΑ Δ

Έστω f παραγωγίσιμη συνάρτηση για την οποία ισχύει:

$$\lim_{h \rightarrow 0} \frac{f(x+h) - f(x)}{h} = x(3x - 2) - 8$$

για κάθε $x \in [0, +\infty)$.

Δ1. Να αποδείξετε ότι $f'(x) = 3x^2 - 2x - 8$.

Μονάδες 5

Δ2. Ένα σώμα κινείται σε έναν άξονα και η θέση του x τη χρονική στιγμή t δίνεται από τη σχέση $x(t) = f(t)$, όπου το x μετριέται σε μέτρα και το t μετριέται σε δευτερόλεπτα.

Ζητούνται:

α. Η ταχύτητα του σώματος τη χρονική στιγμή $t=4$ δευτερόλεπτα.

Μονάδες 5

β. Η χρονική στιγμή κατά την οποία το σώμα είναι ακίνητο.

Μονάδες 8

γ. Η επιτάχυνση του σώματος τη χρονική στιγμή $t=10$ δευτερόλεπτα.

Μονάδες 7

ΟΔΗΓΙΕΣ ΓΙΑ ΤΟΥΣ ΕΞΕΤΑΖΟΜΕΝΟΥΣ

1. Στο τετράδιό σας να γράψετε μόνο τα προκαταρκτικά (ημερομηνία, εξεταζόμενο μάθημα). Να μην αντιγράψετε τα θέματα στο τετράδιο.
2. Να γράψετε το ονοματεπώνυμό σας στο πάνω μέρος των φωτοαντιγράφων, αμέσως μόλις σας παραδοθούν. Δεν επιτρέπεται να γράψετε καμιά άλλη σημείωση. Κατά την αποχώρησή σας να παραδώσετε μαζί με το τετράδιο και τα φωτοαντίγραφα.
3. Να απαντήσετε στο τετράδιό σας σε όλα τα θέματα, **μόνο με μπλε ή μόνο με μαύρο στυλό ανεξίτηλης μελάνης**.
4. Κάθε τεκμηριωμένη απάντηση είναι αποδεκτή.
5. Διάρκεια εξέτασης: τρεις (3) ώρες μετά τη διανομή των φωτοαντιγράφων.
6. Ώρα δυνατής αποχώρησης: **17:00**

ΚΑΛΗ ΕΠΙΤΥΧΙΑ

ΤΕΛΟΣ ΜΗΝΥΜΑΤΟΣ

ΑΡΧΗ 1ΗΣ ΣΕΛΙΔΑΣ
ΠΑΝΕΛΛΑΔΙΚΕΣ ΕΞΕΤΑΣΕΙΣ
ΗΜΕΡΗΣΙΩΝ – ΕΣΠΕΡΙΝΩΝ ΕΠΑΓΓΕΛΜΑΤΙΚΩΝ ΛΥΚΕΙΩΝ
ΣΑΒΒΑΤΟ 4 ΙΟΥΝΙΟΥ 2022
ΕΞΕΤΑΖΟΜΕΝΟ ΜΑΘΗΜΑ:
ΜΑΘΗΜΑΤΙΚΑ (ΑΛΓΕΒΡΑ)

ΣΥΝΟΛΟ ΣΕΛΙΔΩΝ: ΤΕΣΣΕΡΙΣ (4)

ΘΕΜΑ Α

A1. Έστω η συνάρτηση $f(x) = x^2$ για κάθε $x \in \mathbb{R}$. Να αποδείξετε ότι $f'(x) = 2x$.

Μονάδες 7

A2. Να δώσετε τον ορισμό της διαμέσου (δ) ενός δείγματος n παρατηρήσεων.

Μονάδες 6

A3. Να χαρακτηρίσετε τις προτάσεις που ακολουθούν, γράφοντας στο τετράδιό σας, δίπλα στο γράμμα που αντιστοιχεί σε κάθε πρόταση, τη λέξη **Σωστό**, αν η πρόταση είναι σωστή, ή τη λέξη **Λάθος**, αν η πρόταση είναι λανθασμένη.

α. Ο συντελεστής μεταβολής δεν είναι ανεξάρτητος από τις μονάδες μέτρησης.

β. Αν μία συνάρτηση f είναι παραγωγίσιμη σε ένα διάστημα Δ και ισχύει $f'(x) > 0$ για κάθε εσωτερικό σημείο του Δ , τότε η f είναι γνησίως αύξουσα στο Δ .

γ. Ο σταθμικός μέσος είναι μέτρο διασποράς.

Μονάδες 6

A4. Να μεταφέρετε στο τετράδιό σας τις παρακάτω ελλειπείς ισότητες και να τις συμπληρώσετε σωστά:

α. $(\sqrt{x})' = \dots$

β. $(f(g(x)))' = \dots$

Μονάδες 6

ΤΕΛΟΣ 1ΗΣ ΑΠΟ 4 ΣΕΛΙΔΕΣ

ΘΕΜΑ Β

Κατά τον μήνα Νοέμβριο οι απουσίες πέντε (5) μαθητών ήταν:
25, 10, 5, 20, 15.

B1. Να υπολογίσετε τη μέση τιμή \bar{x} (μον.4) και το εύρος (μον. 3) του παραπάνω δείγματος των πέντε μαθητών.

Μονάδες 7

B2. Να υπολογίσετε τη διακύμανση s^2 .

Μονάδες 7

B3. Να υπολογίσετε τον συντελεστή μεταβολής CV του δείγματος (μον. 6) και να εξετάσετε αν το δείγμα είναι ομοιογενές απαντώντας αιτιολογημένα (μον. 5).

Μονάδες 11

ΘΕΜΑ Γ

Δίνεται η συνάρτηση $f(x) = x^3 - 9x^2 + \alpha x + 1$, όπου $x, \alpha \in \mathbb{R}$.

Γ1. Αν ο ρυθμός μεταβολής της f για $x = 1$ είναι ίσος με 0, να δείξετε ότι $\alpha = 15$.

Μονάδες 6

Γ2. Για $\alpha = 15$ να βρείτε την εξίσωση της εφαπτομένης της γραφικής παράστασης της f στο σημείο $M(2, f(2))$.

Μονάδες 6

Γ3. Για $\alpha = 15$ να μελετήσετε τη συνάρτηση $f(x)$ ως προς τη μονοτονία (μον. 6) και τα ακρότατα (μον. 2).

Μονάδες 8

Γ4. Για $\alpha = 15$ να βρείτε το όριο

$$\lim_{x \rightarrow 1} \frac{f'(x)}{x^2 - 1}$$

Μονάδες 5

ΘΕΜΑ Δ

Δίνεται η συνάρτηση

$$f(x) = \frac{x}{x+1}$$

Δ1. Να βρεθεί το πεδίο ορισμού της συνάρτησης (μον. 2) και να υπολογίσετε την παράγωγο $f'(x)$ (μον. 4).

Μονάδες 6

Δ2. Υποθέτουμε ότι ο χρόνος επιστροφής, σε λεπτά, από το σχολείο στο σπίτι για τους μαθητές μίας περιφέρειας ακολουθεί την κανονική κατανομή, με μέση τιμή και τυπική απόκλιση

$$\bar{x} = \frac{1}{f'(2)} , \quad s = \frac{1}{2f'(1)}$$

αντίστοιχα.

Να δείξετε ότι $\bar{x} = 9$ και $s = 2$.

Μονάδες 6

Δ3. Αν το πλήθος των μαθητών της περιφέρειας είναι 2000, πόσοι από αυτούς έχουν χρόνο επιστροφής από 5 έως 11 λεπτά (μον. 6) και πόσοι πάνω από 15 λεπτά (μον. 3);

Μονάδες 9

Δ4. Να υπολογίσετε τη μέση τιμή και την τυπική απόκλιση, στην περίπτωση που ο χρόνος επιστροφής των μαθητών της περιφέρειας αυξηθεί κατά 3 λεπτά.

Μονάδες 4

ΟΔΗΓΙΕΣ ΓΙΑ ΤΟΥΣ ΕΞΕΤΑΖΟΜΕΝΟΥΣ

1. Στο τετράδιο να γράψετε μόνο τα προκαταρκτικά (ημερομηνία, εξεταζόμενο μάθημα). **Να μην αντιγράψετε** τα θέματα στο τετράδιο.
2. Να γράψετε το ονοματεπώνυμό σας στο πάνω μέρος των φωτοαντιγράφων, αμέσως μόλις σας παραδοθούν. **Δεν επιτρέπεται να γράψετε** καμιά άλλη σημείωση. Κατά την αποχώρησή σας να παραδώσετε μαζί με το τετράδιο και τα φωτοαντίγραφα.
3. Να απαντήσετε **στο τετράδιό σας** σε όλα τα θέματα, **μόνο με μπλε ή μόνο με μαύρο στυλό ανεξίτηλης μελάνης**.
4. Κάθε απάντηση επιστημονικά τεκμηριωμένη είναι αποδεκτή.
5. Διάρκεια εξέτασης: τρεις (3) ώρες μετά τη διανομή των φωτοαντιγράφων.
6. Ώρα δυνατής αποχώρησης: **10.00 π.μ.**

ΚΑΛΗ ΕΠΙΤΥΧΙΑ

ΤΕΛΟΣ ΜΗΝΥΜΑΤΟΣ

ΑΡΧΗ 1ΗΣ ΣΕΛΙΔΑΣ**ΕΠΑΝΑΛΗΠΤΙΚΕΣ ΠΑΝΕΛΛΑΔΙΚΕΣ ΕΞΕΤΑΣΕΙΣ
ΗΜΕΡΗΣΙΩΝ ΚΑΙ ΕΣΠΕΡΙΝΩΝ ΕΠΑΓΓΕΛΜΑΤΙΚΩΝ ΛΥΚΕΙΩΝ
ΔΕΥΤΕΡΑ 26 ΣΕΠΤΕΜΒΡΙΟΥ 2022****ΕΞΕΤΑΖΟΜΕΝΟ ΜΑΘΗΜΑ:
ΜΑΘΗΜΑΤΙΚΑ (ΑΛΓΕΒΡΑ)****ΣΥΝΟΛΟ ΣΕΛΙΔΩΝ: ΠΕΝΤΕ (5)****ΘΕΜΑ Α**

A1. Έστω t_1, t_2, \dots, t_n οι παρατηρήσεις μίας μεταβλητής X μεγέθους n που έχουν μέση τιμή \bar{x} . Αν αφαιρέσουμε τη μέση τιμή \bar{x} από κάθε παρατήρηση, να αποδείξετε ότι ο αριθμητικός μέσος των διαφορών αυτών είναι μηδέν.

Μονάδες 9

A2. α. Πώς ορίζεται ο συντελεστής μεταβολής ή συντελεστής μεταβλητότητας μίας μεταβλητής x με μέση τιμή \bar{x} , όπου $\bar{x} \neq 0$;

Μονάδες 4

β. Πότε ένα δείγμα τιμών μίας μεταβλητής είναι ομοιογενές;

Μονάδες 2

A3. Να χαρακτηρίσετε τις προτάσεις που ακολουθούν, γράφοντας στο τετράδιό σας, δίπλα στο γράμμα που αντιστοιχεί σε κάθε πρόταση, τη λέξη **Σωστό**, αν η πρόταση είναι σωστή, ή τη λέξη **Λάθος**, αν η πρόταση είναι λανθασμένη.

α. Μία συνάρτηση f με πεδίο ορισμού το σύνολο A λέμε ότι παρουσιάζει τοπικό μέγιστο στο $x_1 \in A$, όταν $f(x) \leq f(x_1)$ για κάθε x σε μία περιοχή του x_1 .

ΤΕΛΟΣ 1ΗΣ ΑΠΟ 5 ΣΕΛΙΔΕΣ

ΑΡΧΗ 2ΗΣ ΣΕΛΙΔΑΣ

β. Αν f και g παραγωγίσιμες συναρτήσεις, ισχύει

$$\left(\frac{f(x)}{g(x)}\right)' = \frac{f'(x) \cdot g(x) - g'(x) \cdot f(x)}{g(x)^2}, \quad g(x) \neq 0.$$

γ. Αν η καμπύλη συχνοτήτων είναι κανονική ή περίπου κανονική, με μέση τιμή \bar{x} και τυπική απόκλιση s , τότε το 95% περίπου των παρατηρήσεων βρίσκεται στο διάστημα $(\bar{x} - 3s, \bar{x} + 3s)$.

δ. Το εύρος ή κύμανση (R) είναι μέτρο διασποράς.

ε. Το εμβαδόν του χωρίου που ορίζεται από το πολύγωνο συχνοτήτων και τον οριζόντιο άξονα είναι ίσο με 1.

Μονάδες 10

ΘΕΜΑ Β

Δίνεται η συνάρτηση $f(x) = x^3 + \alpha x^2 - 6x + 3$, όπου x, α πραγματικοί αριθμοί.

B1. Αν ο συντελεστής διεύθυνσης της εφαπτομένης της καμπύλης της f στο σημείο της $M(2, f(2))$ είναι ίσος με 14, να αποδείξετε ότι $\alpha = 2$.

Μονάδες 8

B2. Για $\alpha = 2$, να βρείτε το όριο

$$\lim_{x \rightarrow -3} \frac{f''(x) + 14}{x^2 - 9}$$

Μονάδες 7

B3. Για $\alpha = 2$ να μελετήσετε τη συνάρτηση $g(x) = f'(x) - 16x$, με x πραγματικός αριθμός, ως προς τη μονοτονία (μον.8) και να βρείτε τα ακρότατα (μον.2).

Μονάδες 10

ΑΡΧΗ 3ΗΣ ΣΕΛΙΔΑΣ**ΘΕΜΑ Γ**

Οι χρόνοι (σε λεπτά), που χρειάστηκαν 200 μαθητές για να λύσουν ένα πρόβλημα, ομαδοποιήθηκαν σύμφωνα με τον παρακάτω πίνακα:

Κλάσεις [-)	Συχνότητα n_i	Σχετική Συχνότητα f_i	Αθροιστική Σχετική Συχνότητα $F_i\%$
20 – 24	...	0,10	...
24 – 28	...	0,20	...
28 – 32	...	0,30	...
32 – 36	...	0,35	...
36 – 40
Σύνολο	200	...	

Γ1. Να μεταφέρετε τον παραπάνω πίνακα στο τετράδιό σας και να συμπληρώσετε τα κενά.

Μονάδες 12

Γ2. Να κατασκευάσετε το ιστόγραμμα (μον.3) και το πολύγωνο (μον.1) των αθροιστικών σχετικών συχνοτήτων επί τοις %.

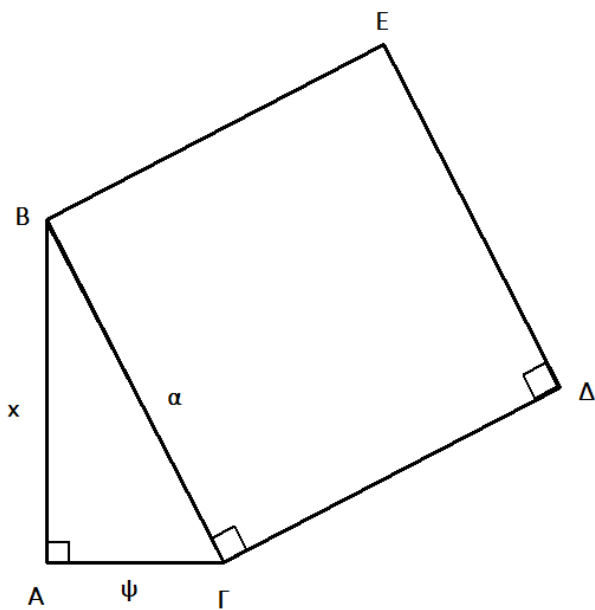
Μονάδες 4

Γ3. Να βρείτε το ποσοστό των μαθητών οι οποίοι χρειάστηκαν μέχρι και 26 λεπτά για να λύσουν το πρόβλημα.

Μονάδες 4

Γ4. Να υπολογίσετε τον μέσο χρόνο που χρειάζεται ένας μαθητής για να λύσει το πρόβλημα.

Μονάδες 5

ΑΡΧΗ 4ΗΣ ΣΕΛΙΔΑΣ**ΘΕΜΑ Δ**

Σε ορθογώνιο τρίγωνο $AB\Gamma$ ($\hat{A} = 90^\circ$), με κάθετες πλευρές $AB = x$, $A\Gamma = \psi$ και υποτείνουσα $B\Gamma = \alpha$, κατασκευάζουμε εξωτερικά τετράγωνο $BE\Delta\Gamma$, με πλευρά $B\Gamma = \alpha$, όπως το διπλανό σχήμα. Αν το άθροισμα των καθέτων πλευρών του τριγώνου $AB\Gamma$ είναι 20cm , τότε:

- Δ1.** Να εκφράσετε την υποτείνουσα $B\Gamma$ του τριγώνου $AB\Gamma$ ως συνάρτηση του x .

Μονάδες 5

- Δ2.** Να εκφράσετε το εμβαδόν $E(x)$ του τετραγώνου $BE\Delta\Gamma$ ως συνάρτηση του x (μον.2) και να βρεθεί το πεδίο ορισμού του εμβαδού $E(x)$ (μον.3).

Μονάδες 5

- Δ3.** Για ποιες τιμές του x το εμβαδόν $E(x)$ γίνεται ελάχιστο (μον.5) και ποια είναι η ελάχιστη τιμή του (μον.2);

Μονάδες 7

- Δ4. α.** Να αποδείξετε ότι το εμβαδόν $T(x)$ του ορθογωνίου τριγώνου $AB\Gamma$ είναι ίσο με $T(x) = 10x - \frac{1}{2}x^2$.

Μονάδες 4

- β.** Να αποδείξετε ότι το τρίγωνο $AB\Gamma$ είναι ορθογώνιο και ισοσκελές, όταν το εμβαδόν $T(x)$ του τριγώνου γίνεται μέγιστο.

Μονάδες 4

ΑΡΧΗ 5ΗΣ ΣΕΛΙΔΑΣ**ΟΔΗΓΙΕΣ ΓΙΑ ΤΟΥΣ ΕΞΕΤΑΖΟΜΕΝΟΥΣ**

1. Στο τετράδιό σας να γράψετε μόνο τα προκαταρκτικά (ημερομηνία, εξεταζόμενο μάθημα). Να μην αντιγράψετε τα θέματα στο τετράδιο.
2. Να γράψετε το ονοματεπώνυμό σας στο πάνω μέρος των φωτοαντιγράφων, αμέσως μόλις σας παραδοθούν. Δεν επιτρέπεται να γράψετε καμιά άλλη σημείωση. Κατά την αποχώρησή σας να παραδώσετε μαζί με το τετράδιο και τα φωτοαντίγραφα.
3. Να απαντήσετε στο τετράδιό σας σε όλα τα θέματα, **μόνο με μπλε ή μόνο με μαύρο στυλό ανεξίτηλης μελάνης**.
4. Κάθε επιστημονικά τεκμηριωμένη απάντηση είναι αποδεκτή.
5. Διάρκεια εξέτασης: τρεις (3) ώρες μετά τη διανομή των φωτοαντιγράφων.
6. Ώρα δυνατής αποχώρησης: **17:00**

ΚΑΛΗ ΕΠΙΤΥΧΙΑ**ΤΕΛΟΣ ΜΗΝΥΜΑΤΟΣ**ΤΕΛΟΣ 5ΗΣ ΑΠΟ 5 ΣΕΛΙΔΕΣ

ΠΑΝΕΛΛΑΔΙΚΕΣ ΕΞΕΤΑΣΕΙΣ
ΗΜΕΡΗΣΙΩΝ – ΕΣΠΕΡΙΝΩΝ ΕΠΑΓΓΕΛΜΑΤΙΚΩΝ ΛΥΚΕΙΩΝ
ΣΑΒΒΑΤΟ 3 ΙΟΥΝΙΟΥ 2023

ΕΞΕΤΑΖΟΜΕΝΟ ΜΑΘΗΜΑ:
ΜΑΘΗΜΑΤΙΚΑ (ΑΛΓΕΒΡΑ)

ΣΥΝΟΛΟ ΣΕΛΙΔΩΝ: ΤΕΣΣΕΡΙΣ (4)

ΘΕΜΑ Α

A1. Να αποδείξετε ότι η παράγωγος της συνάρτησης $cf(x)$, όπου c πραγματικός αριθμός, ισούται με $cf'(x)$.

Μονάδες 10

A2. Πότε μία συνάρτηση f λέγεται παραγωγίσιμη στο σημείο x_0 του πεδίου ορισμού της;

Μονάδες 5

A3. Να χαρακτηρίσετε τις προτάσεις που ακολουθούν, γράφοντας στο τετράδιό σας, δίπλα στο γράμμα που αντιστοιχεί σε κάθε πρόταση, τη λέξη **Σωστό**, αν η πρόταση είναι σωστή, ή τη λέξη **Λάθος**, αν η πρόταση είναι λανθασμένη.

α. Η σχετική συχνότητα f_i της τιμής x_i με $i = 1, 2, \dots, k$ μπορεί να πάρει αρνητικές τιμές.

β. Αν f, g παραγωγίσιμες συναρτήσεις σε ένα διάστημα Δ , τότε ισχύει: $(f(x) + g(x))' = f'(x) + g'(x)$.

γ. Αν η καμπύλη συχνοτήτων είναι κανονική ή περίπου κανονική, με μέση τιμή \bar{x} και τυπική απόκλιση s , τότε το 68% περίπου των παρατηρήσεων βρίσκεται στο διάστημα $(\bar{x} - s, \bar{x} + s)$.

δ. $(\sqrt{x})' = \frac{2}{\sqrt{x}}, x > 0$

ε. Η διάμεσος ενός δείγματος n παρατηρήσεων είναι μέτρο θέσης.

Μονάδες 10

ΘΕΜΑ Β

Δίνεται η συνάρτηση $f(x) = 2x^3 + \alpha x^2 - 12x + 10$, όπου $x \in \mathbb{R}$ και $\alpha \in \mathbb{R}$.

B1. Να βρείτε την παράγωγο $f'(x)$.

Μονάδες 4

B2. Αν η εφαπτομένη της γραφικής παράστασης της f στο $x_0 = 1$ είναι παράλληλη στον άξονα $x'x$, να υπολογίσετε το α .

Μονάδες 6

B3. Για $\alpha = 3$, να μελετήσετε τη συνάρτηση f ως προς τη μονοτονία και να βρείτε το είδος και την τιμή των ακροτάτων.

Μονάδες 9

B4. Για $\alpha = 3$, να υπολογίσετε το όριο $\lim_{x \rightarrow 1} \frac{f'(x)}{x-1}$.

Μονάδες 6

ΘΕΜΑ Γ

Ρωτήθηκαν οι μαθητές/τριες της Γ' τάξης ενός ΕΠΑΛ πόσες ώρες διέθεσαν στα μέσα κοινωνικής δικτύωσης την προηγούμενη εβδομάδα. Οι απαντήσεις τους ομαδοποιήθηκαν όπως φαίνεται στον παρακάτω πίνακα:

Κλάσεις [,)	Κεντρική τιμή x_i	Συχνότητα ν_i	$x_i \nu_i$
[8,12)	10	20	200
[12,16)	14	15	210
[16,20)		ν_3	
[20,24)		5	
	Σύνολο		

Δίνεται ότι ο μέσος χρόνος είναι $\bar{x} = 14$.

Γ1. Να δείξετε ότι $v_3 = 10$.

Μονάδες 8

Γ2. Να μεταφέρετε στο τετράδιό σας τον προηγούμενο πίνακα και να συμπληρώσετε τα κενά.

Μονάδες 6

Γ3. Να υπολογίσετε τη διακύμανση s^2 .

Μονάδες 6

Γ4. Να υπολογίσετε τον συντελεστή μεταβολής CV. Είναι το δείγμα ομοιογενές; Να αιτιολογήσετε την απάντησή σας.

Μονάδες 5

ΘΕΜΑ Δ

Δίνεται η συνάρτηση $f(x) = -\frac{1}{x^2}$, με $x \neq 0$.

Δ1. Να μελετήσετε τη συνάρτηση f ως προς τη μονοτονία στο πεδίο ορισμού της.

Μονάδες 7

Δ2. Να δείξετε ότι για κάθε $x \in [-4, -1]$ ισχύει:

$$-1 \leq f(x) \leq -\frac{1}{16}$$

Μονάδες 6

Δ3. Να βρείτε την εξίσωση της εφαπτομένης (ε) της γραφικής παράστασης της συνάρτησης f στο σημείο $M(1, f(1))$.

Μονάδες 6

Δ4. Αν $A(x_1, y_1)$, $B(x_2, y_2)$, $\Gamma(x_3, y_3)$ είναι σημεία της εφαπτομένης (ε) τέτοια ώστε οι τετμημένες τους x_1, x_2, x_3 να έχουν μέση τιμή $\bar{x} = 4$ και τυπική απόκλιση $s_x = 2$, να υπολογίσετε τον συντελεστή μεταβολής CV των τεταγμένων y_1, y_2, y_3 .

Μονάδες 6

ΟΔΗΓΙΕΣ ΓΙΑ ΤΟΥΣ ΕΞΕΤΑΖΟΜΕΝΟΥΣ

1. Στο τετράδιο να γράψετε μόνο τα προκαταρκτικά (ημερομηνία, εξεταζόμενο μάθημα). **Να μην αντιγράψετε** τα θέματα στο τετράδιο.
2. Να γράψετε το ονοματεπώνυμό σας στο πάνω μέρος των φωτοαντιγράφων, αμέσως μόλις σας παραδοθούν. **Δεν επιτρέπεται να γράψετε** καμιά άλλη σημείωση. Κατά την αποχώρησή σας να παραδώσετε μαζί με το τετράδιο και τα φωτοαντίγραφα.
3. Να απαντήσετε **στο τετράδιό σας** σε όλα τα θέματα, **μόνο με μπλε ή μόνο με μαύρο στυλό ανεξίτηλης μελάνης**.
4. Κάθε απάντηση επιστημονικά τεκμηριωμένη είναι αποδεκτή.
5. Διάρκεια εξέτασης: τρεις (3) ώρες μετά τη διανομή των φωτοαντιγράφων.
6. Ώρα δυνατής αποχώρησης: **10.00 π.μ.**

ΚΑΛΗ ΕΠΙΤΥΧΙΑ

ΤΕΛΟΣ ΜΗΝΥΜΑΤΟΣ

ΠΑΝΕΛΛΑΔΙΚΕΣ ΕΞΕΤΑΣΕΙΣ
ΗΜΕΡΗΣΙΩΝ – ΕΣΠΕΡΙΝΩΝ ΕΠΑΓΓΕΛΜΑΤΙΚΩΝ ΛΥΚΕΙΩΝ
ΣΑΒΒΑΤΟ 3 ΙΟΥΝΙΟΥ 2023

ΕΞΕΤΑΖΟΜΕΝΟ ΜΑΘΗΜΑ:
ΜΑΘΗΜΑΤΙΚΑ (ΑΛΓΕΒΡΑ)

ΣΥΝΟΛΟ ΣΕΛΙΔΩΝ: ΤΕΣΣΕΡΙΣ (4)

ΘΕΜΑ Α

A1. Να αποδείξετε ότι η παράγωγος της συνάρτησης $cf(x)$, όπου c πραγματικός αριθμός, ισούται με $cf'(x)$.

Μονάδες 10

A2. Πότε μία συνάρτηση f λέγεται παραγωγίσιμη στο σημείο x_0 του πεδίου ορισμού της;

Μονάδες 5

A3. Να χαρακτηρίσετε τις προτάσεις που ακολουθούν, γράφοντας στο τετράδιό σας, δίπλα στο γράμμα που αντιστοιχεί σε κάθε πρόταση, τη λέξη **Σωστό**, αν η πρόταση είναι σωστή, ή τη λέξη **Λάθος**, αν η πρόταση είναι λανθασμένη.

α. Η σχετική συχνότητα f_i της τιμής x_i με $i = 1, 2, \dots, k$ μπορεί να πάρει αρνητικές τιμές.

β. Αν f, g παραγωγίσιμες συναρτήσεις σε ένα διάστημα Δ , τότε ισχύει: $(f(x) + g(x))' = f'(x) + g'(x)$.

γ. Αν η καμπύλη συχνοτήτων είναι κανονική ή περίπου κανονική, με μέση τιμή \bar{x} και τυπική απόκλιση s , τότε το 68% περίπου των παρατηρήσεων βρίσκεται στο διάστημα $(\bar{x} - s, \bar{x} + s)$.

δ. $(\sqrt{x})' = \frac{2}{\sqrt{x}}, x > 0$

ε. Η διάμεσος ενός δείγματος n παρατηρήσεων είναι μέτρο θέσης.

Μονάδες 10

ΘΕΜΑ Β

Δίνεται η συνάρτηση $f(x) = 2x^3 + \alpha x^2 - 12x + 10$, όπου $x \in \mathbb{R}$ και $\alpha \in \mathbb{R}$.

B1. Να βρείτε την παράγωγο $f'(x)$.

Μονάδες 4

B2. Αν η εφαπτομένη της γραφικής παράστασης της f στο $x_0 = 1$ είναι παράλληλη στον άξονα $x'x$, να υπολογίσετε το α .

Μονάδες 6

B3. Για $\alpha = 3$, να μελετήσετε τη συνάρτηση f ως προς τη μονοτονία και να βρείτε το είδος και την τιμή των ακροτάτων.

Μονάδες 9

B4. Για $\alpha = 3$, να υπολογίσετε το όριο $\lim_{x \rightarrow 1} \frac{f'(x)}{x-1}$.

Μονάδες 6

ΘΕΜΑ Γ

Ρωτήθηκαν οι μαθητές/τριες της Γ' τάξης ενός ΕΠΑΛ πόσες ώρες διέθεσαν στα μέσα κοινωνικής δικτύωσης την προηγούμενη εβδομάδα. Οι απαντήσεις τους ομαδοποιήθηκαν όπως φαίνεται στον παρακάτω πίνακα:

Κλάσεις [,)	Κεντρική τιμή x_i	Συχνότητα ν_i	$x_i \nu_i$
[8,12)	10	20	200
[12,16)	14	15	210
[16,20)		ν_3	
[20,24)		5	
	Σύνολο		

Δίνεται ότι ο μέσος χρόνος είναι $\bar{x} = 14$.

Γ1. Να δείξετε ότι $v_3 = 10$.

Μονάδες 8

Γ2. Να μεταφέρετε στο τετράδιό σας τον προηγούμενο πίνακα και να συμπληρώσετε τα κενά.

Μονάδες 6

Γ3. Να υπολογίσετε τη διακύμανση s^2 .

Μονάδες 6

Γ4. Να υπολογίσετε τον συντελεστή μεταβολής CV. Είναι το δείγμα ομοιογενές; Να αιτιολογήσετε την απάντησή σας.

Μονάδες 5

ΘΕΜΑ Δ

Δίνεται η συνάρτηση $f(x) = -\frac{1}{x^2}$, με $x \neq 0$.

Δ1. Να μελετήσετε τη συνάρτηση f ως προς τη μονοτονία στο πεδίο ορισμού της.

Μονάδες 7

Δ2. Να δείξετε ότι για κάθε $x \in [-4, -1]$ ισχύει:

$$-1 \leq f(x) \leq -\frac{1}{16}$$

Μονάδες 6

Δ3. Να βρείτε την εξίσωση της εφαπτομένης (ε) της γραφικής παράστασης της συνάρτησης f στο σημείο $M(1, f(1))$.

Μονάδες 6

Δ4. Αν $A(x_1, y_1)$, $B(x_2, y_2)$, $\Gamma(x_3, y_3)$ είναι σημεία της εφαπτομένης (ε) τέτοια ώστε οι τετμημένες τους x_1, x_2, x_3 να έχουν μέση τιμή $\bar{x} = 4$ και τυπική απόκλιση $s_x = 2$, να υπολογίσετε τον συντελεστή μεταβολής CV των τεταγμένων y_1, y_2, y_3 .

Μονάδες 6

ΟΔΗΓΙΕΣ ΓΙΑ ΤΟΥΣ ΕΞΕΤΑΖΟΜΕΝΟΥΣ

1. Στο τετράδιο να γράψετε μόνο τα προκαταρκτικά (ημερομηνία, εξεταζόμενο μάθημα). **Να μην αντιγράψετε** τα θέματα στο τετράδιο.
2. Να γράψετε το ονοματεπώνυμό σας στο πάνω μέρος των φωτοαντιγράφων, αμέσως μόλις σας παραδοθούν. **Δεν επιτρέπεται να γράψετε** καμιά άλλη σημείωση. Κατά την αποχώρησή σας να παραδώσετε μαζί με το τετράδιο και τα φωτοαντίγραφα.
3. Να απαντήσετε **στο τετράδιό σας** σε όλα τα θέματα, **μόνο με μπλε ή μόνο με μαύρο στυλό ανεξίτηλης μελάνης**.
4. Κάθε απάντηση επιστημονικά τεκμηριωμένη είναι αποδεκτή.
5. Διάρκεια εξέτασης: τρεις (3) ώρες μετά τη διανομή των φωτοαντιγράφων.
6. Ώρα δυνατής αποχώρησης: **10.00 π.μ.**

ΚΑΛΗ ΕΠΙΤΥΧΙΑ

ΤΕΛΟΣ ΜΗΝΥΜΑΤΟΣ

ΑΡΧΗ 1ΗΣ ΣΕΛΙΔΑΣ
ΕΠΑΝΑΛΗΠΤΙΚΕΣ ΠΑΝΕΛΛΑΔΙΚΕΣ ΕΞΕΤΑΣΕΙΣ
ΗΜΕΡΗΣΙΩΝ ΚΑΙ ΕΣΠΕΡΙΝΩΝ ΕΠΑΓΓΕΛΜΑΤΙΚΩΝ ΛΥΚΕΙΩΝ
ΔΕΥΤΕΡΑ 25 ΣΕΠΤΕΜΒΡΙΟΥ 2023

ΕΞΕΤΑΖΟΜΕΝΟ ΜΑΘΗΜΑ:
ΜΑΘΗΜΑΤΙΚΑ (ΑΛΓΕΒΡΑ)

ΣΥΝΟΛΟ ΣΕΛΙΔΩΝ: ΠΕΝΤΕ (5)

ΘΕΜΑ Α

- A1.** Έστω x_1, x_2, \dots, x_k οι τιμές μίας μεταβλητής X ενός δείγματος μεγέθους n , όπου k, n μη μηδενικοί φυσικοί αριθμοί με $k \leq n$. Για τη σχετική συχνότητα f_i της τιμής x_i , $i = 1, 2, \dots, k$ να αποδείξετε ότι:

$$f_1 + f_2 + \dots + f_k = 1$$

Μονάδες 5

- A2.** Πότε μία συνάρτηση f με πεδίο ορισμού το A παρουσιάζει τοπικό μέγιστο στο $x_1 \in A$;

Μονάδες 5

- A3.** Να χαρακτηρίσετε τις προτάσεις που ακολουθούν, γράφοντας στο τετράδιό σας, δίπλα στο γράμμα που αντιστοιχεί σε κάθε πρόταση, τη λέξη **Σωστό**, αν η πρόταση είναι σωστή, ή τη λέξη **Λάθος**, αν η πρόταση είναι λανθασμένη.

- α.** Η διακύμανση ενός δείγματος είναι μέτρο θέσης.
- β.** Αν η τετμημένη ενός κινητού που κινείται ευθύγραμμα είναι $x(t)$ τη χρονική στιγμή t , τότε η ταχύτητά του θα είναι $v(t) = x'(t)$.
- γ.** $(x^p)' = px^{p-1}$, όπου p ρητός αριθμός.

Μονάδες 6

A4. Να μεταφέρετε στο τετράδιό σας τις παρακάτω ελλειπείς ισότητες και να τις συμπληρώσετε σωστά:

α. $\left(\frac{1}{x^2}\right)' = \dots$

β. $(f(x) \cdot g(x))' = \dots$

γ. $\lim_{x \rightarrow x_0} (f(x))^v = \dots$, όπου $\lim_{x \rightarrow x_0} f(x) = \ell_1$, ℓ_1 πραγματικός αριθμός, v ακέραιος.

Μονάδες 9

ΘΕΜΑ Β

Ο χρόνος αναμονής (σε λεπτά) ενός δείγματος επιβατών σε μία στάση λεωφορείου, κατά τη διάρκεια μίας ημέρας, ακολουθεί περίπου την κανονική κατανομή με μέση τιμή $\bar{x} = 5$ και τυπική απόκλιση $s = \lim_{x \rightarrow 1} \frac{x-1}{2(\sqrt{x}-1)}$.

B1. Να υπολογίσετε την τυπική απόκλιση s .

Μονάδες 6

Αν $s = 1$:

B2. Να βρείτε το ποσοστό του δείγματος με χρόνο αναμονής από 3 έως 6 λεπτά.

Μονάδες 7

B3. Να βρείτε τη διάμεσο δ (μον.1), τον συντελεστή μεταβολής CV (μον.2) και να εκτιμήσετε το εύρος R (μον.1).

Μονάδες 4

B4. Αν ο χρόνος αναμονής 380 ατόμων είναι από 3 έως 7 λεπτά, να βρείτε το μέγεθος του δείγματος.

Μονάδες 8

ΘΕΜΑ Γ

Τα έτη υπηρεσίας των 50 υπαλλήλων μίας εταιρείας ομαδοποιήθηκαν σε 4 κλάσεις ίσου πλάτους, όπως φαίνεται στον παρακάτω πίνακα:

Έτη [,)	Κεντρική τιμή x_i	Συχνότητα v_i	Σχετική Συχνότητα $f_i\%$	Αθροιστική Σχετική Συχνότητα $F_i\%$
[0, 10)	5	7	14	...
[10, 20)	15	$2\alpha + 4$
[20, 30)	25	10
[30, 40)	35	$3\alpha - 6$...	100
Σύνολο		50	100	

Γ1. Να υπολογίσετε το α .

Μονάδες 5

Αν $\alpha = 7$:

Γ2. Να μεταφέρετε στο τετράδιό σας τον πίνακα και να συμπληρώσετε τα κενά.

Μονάδες 6

Γ3. Να υπολογίσετε τη μέση τιμή \bar{x} .

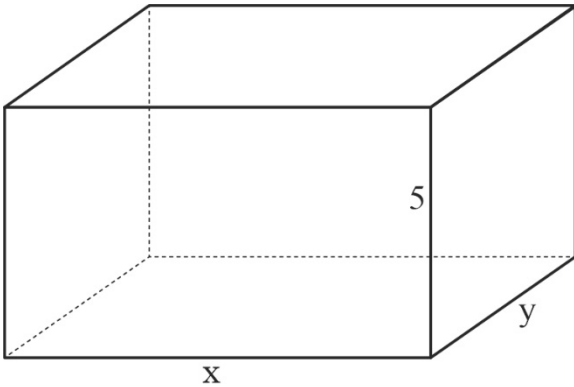
Μονάδες 7

Γ4. α. Να κατασκευάσετε το ιστόγραμμα (μον.3) και το πολύγωνο (μον. 1) των αθροιστικών σχετικών συχνοτήτων %.

β. Να εκτιμήσετε τη διάμεσο (μον. 3).

Μονάδες 7

ΘΕΜΑ Δ



Μία δεξαμενή σχήματος ορθογωνίου παραλληλεπιπέδου με ύψος 5 μέτρα, έχει βάση ορθογώνιο μήκους x και πλάτους y (οι διαστάσεις x, y εκφράζονται σε μέτρα). Η περίμετρος της βάσης είναι 40 μέτρα.

Δ1. Να εκφράσετε το πλάτος y ως συνάρτηση του x .

Μονάδες 4

Δ2. Να δείξετε ότι ο όγκος της δεξαμενής δίνεται από τη συνάρτηση με τύπο $V(x) = 100x - 5x^2$ και να βρείτε το πεδίο ορισμού της συνάρτησης του όγκου $V(x)$.

Μονάδες 6

Δ3. α. Για ποια τιμή του x η δεξαμενή έχει τον μέγιστο όγκο (μον. 8);

β. Να υπολογίσετε τον μέγιστο όγκο (μον. 2).

Μονάδες 10

Δ4. Δύο δεξαμενές Α και Β ίδιου σχήματος με την αρχική, έχουν μήκη $x_A = 11,81$ μέτρα και $x_B = 11,82$ μέτρα αντιστοίχως. Να απαντήσετε αιτιολογημένα ποια από τις δύο δεξαμενές έχει τον μεγαλύτερο όγκο.

Μονάδες 5

ΟΔΗΓΙΕΣ ΓΙΑ ΤΟΥΣ ΕΞΕΤΑΖΟΜΕΝΟΥΣ

1. Στο τετράδιό σας να γράψετε μόνο τα προκαταρκτικά (ημερομηνία, εξεταζόμενο μάθημα). Να μην αντιγράψετε τα θέματα στο τετράδιο.
2. Να γράψετε το ονοματεπώνυμό σας στο πάνω μέρος των φωτοαντιγράφων, αμέσως μόλις σας παραδοθούν. Δεν επιτρέπεται να γράψετε καμιά άλλη σημείωση. Κατά την αποχώρησή σας να παραδώσετε μαζί με το τετράδιο και τα φωτοαντίγραφα.
3. Να απαντήσετε στο τετράδιό σας σε όλα τα θέματα, **μόνο με μπλε ή μόνο με μαύρο στυλό ανεξίτηλης μελάνης**.
4. Κάθε επιστημονικά τεκμηριωμένη απάντηση είναι αποδεκτή.
5. Διάρκεια εξέτασης: τρεις (3) ώρες μετά τη διανομή των φωτοαντιγράφων.
6. Ώρα δυνατής αποχώρησης: **17:00**

ΚΑΛΗ ΕΠΙΤΥΧΙΑ

ΤΕΛΟΣ ΜΗΝΥΜΑΤΟΣ